

المادة : مبادئ المحاسبة  
المرحلة : الاولى  
الوقت : ساعتان  
التاريخ : 2024 / 7 / 8



جامعة البصرة  
كلية الإدارة والاقتصاد  
قسم العلوم المالية والمصرفية  
الدراسات المسائية الدور الثالث

اسئلة الامتحانات النهائية للكورس الثاني / الدور (د) للعام الدراسي 2023 - 2024

ملاحظة: الاجابة عن اربعة اسئلة فقط (( توزع الدرجات بالتساوي )) .

س1/ اجب عن كل مما يأتي :

- أ- تحدث عند عملية استبدال الموجودات الثابتة عدة احتمالات اذكرها بالتفصيل؟ مع ذكر القيود المحاسبية لكل احتمال ؟  
ب- عرف الشيك وما هي اهم المعلومات التي يجب ان يتضمنها ؟

س2// توفرت لديك البيانات التالية لمحللات بابل التجارية

1- 2023/3/1 بدأت المحللات اعمالها بالموجودات والمطلوبات التالية  
صندوق 30,000,000 دانون 15,000,000 سيارات 10,000,000 اثاث 8,000,000 قروض 6,000,000  
مصرف 20,000,000 اوراق دفع 5,000,000 مكائن 9,000,000 راس المال ؟؟؟؟

- 2- 3/3 اقترضت المحللات من مصرف الرشيد مبلغ 6,000,000 دينار بمعدل فائدة سنوي 9% اودعتها في حسابها الجاري لدى المصرف .  
3- 3/5 باعت الشركة 30% من الاثاث ببيع مقداره 20% من سعر البيع نقدا .  
4- 3/7 قامت الشركة باستبدال احدى السيارات بأخرى جديدة قيمتها السوقية 4,000,000 دينار وحققت الشركة ربح من عملية الاستبدال مقداره 1,000,000 دينار وقد قدرت قيمة السيارة القديمة بمبلغ 3,000,000 دينار وقد تم الاتفاق على دفع الفرق نقدا .  
5- 3/9 اشترت المحللات مكائن بمبلغ 3,500,000 دينار بشيك كما دفعت الشركة مصاريف نقل المكائن والبالغة 500,000 دينار نقدا .  
6- 6/15 باعت المحللات المكائن بخسارة مقدارها 15% من القيمة الدفترية نقدا .  
7- 11/3 سددت المحللات القرض مع الفوائد بشيك .

المطلوب // تسجيل قيود اليومية الازمة في دفاتر محلات بابل ؟

س3// وردت الى شركة الفرات ثلاث اوراق تجارية حسب التفاصيل ادناه :

- أ- ورقة من التاجر احمد بمبلغ 6,000,000 دينار تستحق الدفع 2020/7/1 .  
ب- ورقة من التاجر حسن بمبلغ 8,000,000 دينار تستحق الدفع 2020/8/2 .  
ت- ورقة من التاجر علاء بمبلغ 7,000,000 دينار تستحق الدفع 2020/9/1 .  
1- بتاريخ 5/1 اشترت الشركة بضاعة من التاجر كريم بمبلغ 8,000,000 دينار وبخصم تجاري 10% حيث ظهرت له كمبيالة التاجر احمد ودفعت الباقي نقدا .  
2- بتاريخ 5/2 قامت الشركة بخصم كمبيالة حسن لدى مصرف الرافدين مقابل عمولة مصرف 20,000 دينار .  
3- 6/1 قامت الشركة بإرسال ورقة التاجر علاء الى مصرف الرشيد لغرض التحصيل .  
4- 8/2 رفض التاجر حسن سداد قيمة الكمبيالة الى المصرف حيث بلغت مصاريف الاحتجاج 100,000 دينار .  
5- 8/5 اتفقت الشركة مع التاجر حسن على تجديد الكمبيالة على النحو التالي :  
أ- ان يدفع مبلغ 2,000,000 دينار نقدا .  
ب- احتساب فوائد تأخيريه مقدارها 500,000 دينار .  
ت- ينظم كمبيالة جديدة بالمبلغ المتبقي تستحق الدفع بتاريخ 11/1 .  
6- 9/1 اشعر المصرف الشركة بتحصيل قيمة كمبيالة علاء مقابل عمولة تحصيل 10,000 دينار .

م// تسجيل قيود اليومية في سجلات شركة الفرات والتاجر حسن



س4/ توفرت لديك البيانات التالية .

تمنح شركة البصرة التجارية خصم كمية على مبيعاتها حسب النسب التالية :

ما زاد عن 1,000,000 - 600,000 %3

2,000,000 - 1,000,000 %4

ما زاد عن ذلك 6 %

- 1- اشترى التاجر علاء بضاعة من شركة البصرة بمبلغ 4,000,000 دينار بالأجل .
- 2- 3/2 دفعت شركة البصرة مصاريف نقل البضاعة والبالغة 150,000 دينار نقدا .
- 3- 3/4 باعت شركة البصرة بضاعة الى التاجر محمد بمبلغ 6,000,000 دينار بالأجل .
- 4- 3/5 اشترى التاجر علاء بضاعة من التاجر محمد بمبلغ 3,000,000 دينار ويخصم تجاري 2 % وشروط الدفع 5/3 و 10/2 و ن/30 .
- 5- 3/6 تبين ان هناك بضاعة غير مطابقة للمواصفات بمبلغ 500,000 دينار اتفق التاجر علاء مع التاجر محمد على ارجاعها .
- 6- 3/7 سدد التاجر علاء الرصيد المتبقي بذمته بشيك الى شركة البصرة التجارية .
- 7- 3/8 سدد التاجر علاء الدين المترتب بذمته بشيك الى التاجر محمد .
- 8- 3/15 سدد التاجر محمد الرصيد المتبقي بذمته الى شركة البصرة نقدا .

م/ تسجيل قيود اليومية اللازمة في دفاتر كل من شركة البصرة التجارية والتاجر محمد اذا علمت ان تم الاتفاق :

- 1- احتساب خصم الكمية عند كل عملية شراء للتاجر علاء .
- 2- احتساب خصم الكمية عند السداد للتاجر محمد .

س5// في ما يلي ارصده ظاهرة في دفاتر شركة بابل التجارية لشهر كانون الثاني 2022:

صندوق ؟؟؟, مصرف 19,000,000, دانون 8,800,000, خسائر بيع موجودات ثابتة 2,500,000, ائاث 12,000,000, ايراد عقار 10,000,000, اجهزة 8,500,000, مردودات المبيعات 3,500,000, خصم مكتسب 1,000,000, مصاريف تحصيل 800,000, اوراق قبض ؟؟؟, قروض 9,300,000, مردودات المشتريات 3,200,000, مصاريف مبيعات 250,000, مبيعات 15,000,000, مدينون 7,500,000, مشتريات 25,000,000, بضاعة 31/12/2021 4,000,000, فوائد دائنة 2,000,000, ارباح بيع موجودات ثابتة 4,500,000, مصاريف قطع 3,000,000, اوراق دفع 5,500,000, مصاريف احتجاج 250,000, رأس المال 45,000,000. اذا علمت ان الصندوق واوراق القبض تعادل 25% و 15% على التوالي من رأس المال

م// - اعداد ميزان المراجعة بالأرصدة

مع تمنياتنا بالنجاح

رئيس القسم  
م.د. شروق خلف

مدرس المادة  
م. قاسم محمد دهش

المرحلة : الاولى  
المادة : ادارة الاعمال  
الزمن : ساعتين  
التاريخ : 2024/7/10



جامعة البصرة  
كلية الادارة والاقتصاد  
قسم العلوم المالية والمصرفية  
الدراسات المسائية

الامتحان النهائي الكورس الثاني / الدور الاول

ملاحظة/ الإجابة عن خمسة اسئلة فقط (توزع الدرجات بالتساوي)

س1: اجب عما يأتي:

أ: ما لمقصود بخطة ادارة الازمات وماهي خطوات التعامل مع الازمة، وضح ذلك بالتفصيل؟

ب: عدد فقط صفات القائد الكارزمي؟

س2: اجب عن الفرعيين التاليين:

أ : عدد فقط ما يلي.

1. خصائص النظام الرقابي الفعال 2. خصائص الأهداف

ب. استخدم المقارنة لتوضيح اهم الفروقات بين القائد والمدير؟

س3: وضح الاتي :

أ: ماذا نقصد بمصطلح الإدارة بالأهداف؟ وما هي مراحلها؟ وضح ذلك معزراً اجابتك بالرسم ؟

ب: قدم الباحثون المستوى الخامس للقيادة في بيئة العمل الجديدة باعتباره اعلى مستوى في

هرم قابليات المدراء وضح هذه المستويات معزراً اجابتك بالرسم؟

س4: وضح من خلال الرسم فقط :

1. مقارنة بين التصميم العضوي والميكانيكي

2. مراحل العملية التخطيطية

3. اجزاء المنظمة



س5 : اجب عما يأتي :

أ: تتعدد الاغراض من وجود الرقابة والنظام الرقابي في منظمات الاعمال، وضح هذه الاغراض الرقابية، معززا اجابتك بالرسم؟

ب. من ضمن النظريات السلوكية للقيادة دراسات اوهايو، وضح بالتفصيل هذه الدراسة معزراً اجابتك بالرسم؟


.....

س6 : اعطي مفهوم مناسب لكل مما يأتي

- 1.التخطيط      2.الرقابة الاستراتيجية      3. القواعد      4.الرقابة المالية  
5.حجم المنظمة      6.القيادة الرسالية      7.الفاعلية التنظيمية

.....

...مع خالص تمنياتي لكم بالنجاح...




م.د. شروق خلف  
رئيس القسم



م.م. دعاء شهيد حبيب  
مدرس المادة



المادة : الاقتصاد  
المرحلة : الاولى  
الوقت : ساعتان  
التاريخ : 2024/ 7 / ١3



جامعة البصرة  
كلية الإدارة والاقتصاد  
قسم العلوم المالية والمصرفية  
الدراسات المسائية

اسئلة الامتحان النهائي / الكورس الثاني / الدوام الأول / للعام الدراسي 2024/2023

ملاحظة: الإجابة بالقلم الجاف الأسود أو الأزرق حصراً  
الإجابة عن أربعة أسئلة فقط

س1/أ- توفرت لديك البيانات التالية:

2750	الانفاق الاستثماري العام
1250	الانفاق الاستثماري الخاص
1500	الانفاق الاستهلاكي الخاص
1350	الانفاق الاستهلاكي العام
2000	صافي التجارة الخارجية

المطلوب : حساب الدخل القومي.

س1/ب - اكتب دالة الاستهلاك مع توضيح كل متغير فيها ماذا يعني معززاً إجابتك بالرسم.

(13درجة)

س2/ عائلة تستهلك ( \$1000 ) عندما كان دخلها (\$1150) واصبحت تستهلك (\$1100) عندما أصبح دخلها (\$1300) تم تغير انفاقها الاستهلاكي واصبحت تستهلك (\$1200) على أثر تغير دخلها إلى (\$1450).

المطلوب : ايجاد APC , MPC, APS , MPS

(12درجة)

س3/أ- توفرت لديك البيانات التالية لدولة ما لاقتصادها وهي كالتالي:

$$C=20+0.75Y$$

$$I=\$50$$

الانفاق الاستهلاكي

الانفاق الاستثماري

المطلوب: حساب المستوى التوازني للدخل.

س3/ب- وضح كشف الميزانية للبنك المركزي.

(12 درجة)

س4/ أجب عما يأتي:

1- ما المقصود ب السياسة المالية؟

2- ما هي ادوات السياسة المالية؟ عددها


3- ماهي اهداف السياسة الضريبية؟ عددها.


(13درجة)

س5/ اختر الاجابة الصحيحة لكل مما يأتي :

- 1- يرى الكلاسيك ان الاقتصاد يصل الى المستوى التوازني في حالة  
(أ) اقل من التوظيف الكامل . (ب) التوظيف الكامل (ج) اكبر من التوظيف الكامل
- 2- ان فرض ضريبة على اصحاب الدخول المنخفضة يقود إلى :  
(أ) زيادة الانتاج والاستهلاك . (ب) زيادة الادخار والاستثمار . (ج) انخفاض الانتاج والاستهلاك.
- 3- لديك دالة الاستهلاك التالية  $C=15+0.70Y$  والانفاق الاستثماري يساوي \$70 , فأن المستوى التوازني للدخل هو:  
(أ) 200 . (ب) 283.33 (ج) 108 .
- 4- تمثل B في دالة الاستهلاك MPC وتكون قيمتها  
(أ)  $>1$  (ب) 2 (ج)  $0 < 1 < 0$
- 5- ان شراء البنك المركزي للاوراق المالية والحكومية يؤدي إلى:  
(أ) زيادة النقد في التداول (ب) انخفاض النقد في التداول (ج) زيادة الاوراق المالية في التداول .
- 6- تعتبر أداة تسهيلات الايداع والاقرض لليلة واحدة ذات تأثير سريع على :  
(أ) النقد المعروض في التداول (ب) الطلب على النقد (ج) اسعار الفائدة وإدارة السيولة.
- 7- التضخم المفرط (الجامح) يقصد به الارتفاع المستمر للاسعار بشكل كبير وتزداد فيه:  
(أ) كمية النقود (ب) سرعة تداول النقود (ج) قيمة النقود.
- 8- تمثل  $\alpha$  في دالة الادخار  
(أ) الاستهلاك المستقل عن الدخل (ب) الميل المتوسط للادخار  
(ج) الادخار المستقل عن الدخل
- 9- تكون قيمة ال MPC :  
(أ) متزايدة (ب) ثابتة (ج) متغيرة
- 10 - تمثل (1-B) في دالة الادخار :  
(أ) MPC (ب) MPS (ج) APS

(12 درجة)

  
م.د. شروق خلف لطيف  
رئيس القسم

  
م.د. زهار عبد اللطيف  
مدرس المادة





Notes : - Answer Four (4) questions only .  
- (12.5Marks) for each question.

Q1) Answer the two sections

A- Do as required .

- 1- ..... is his first name ? Ali. ( Wh. question )
- 2- (.) = dot , @ = ..... ( Abbreviation )
- 3- 8 = eight , 10 = ..... ( Number )
- 4- \$ 5.07 = ..... ( currency )
- 5- write , writes / teach , ..... ( Add -s )
- 6- a good student . a ----- teacher. ( use opposite )

B / answer the questions:

- 1- What is the name of Babur's school?
- 2- How can the adjective be more stronger ?
- 3- What verbs to be used with we and they ?
- 4- What is the difference between Claudia and Andrew. three points

Q2/ Choose the correct word between brackets ( a , b or c ) .(12.5M.)

- 1- I went to Delhi ( a-by b- on c- through ) bus.
- 2- There ( a- is b- are c- has ) just one bathroom .
- 3- Do we have ( a- a b- any c- some ) homework tonight?
- 4- There is a ( a-bed b- fridge c- sofa ) in the living room.
- 5- Why don't you eat tomatoes ? I don't like ( a- it b- them c- her ) .
- 6- She works in a hotel ( a- lawyer b- receptionist c- pilot )
- 7- My grandmother ----- in the next town. ( a- live b- lives c- is live )
- 8- ..... do you work ? In a company . ( a- Where b- How c- What )
- 9- Look at ( a- those b- this c- that ) pupils.
- 10- Would you like ( a- some b- any c- a ) coffee?
- 11- Twenty five to ten = ( a- 9:35 b- 10:25 c- 9: 40 )
- 12- Jamal likes swimming,---- he dislikes running . ( a-and b-but c- because )



Q3) Answer the two sections

A- Match the sentences in line (A) with sentences in line (B).

1	Where are you from Lara ?	A	Of course .Anything else ?
2	Can I have an orange juice , please ?	B	Great ! what about the kitchen?
3	Excuse me. What time does the train leave?	C	I'm from London .
4	Excuse me ! How much are these?	D	At five past six.
5	There are two bedrooms in this flat.	E	Oh , they're very special ! They are \$200.

b- Write in the blank the symbol to classify the underlined word .

1- The <u>boy</u> plays football .	A	Pronoun
2- Mohammed <u>went</u> to school.	B	Noun
3- The sky is <u>beautiful</u> .	C	Conjunction verb
4- He drives the car <u>fast</u> .	D	Adjective
5- The teacher helps students <u>at</u> school.	E	Adverb
6- <u>He</u> is a good boy .	F	Preposition

Q4) Determine whether the statement is true or false, then correct the false .

- 1- Rick Wilson lives with his family in a house in West England.
- 2- Annalisa's school is in London Centre .
- 3- The National Gallery is expensive .
- 4- Babur gets up at 8 a.m.
- 5- Babur Ali speaks English.
- 6- It is twenty to ten . = (10:20) .
- 7- She writes news stories, she is lawyer .
- 8- Your sister's son is your nephew .
- 9- He will arrive on 7 :00 o'clock .
- 10- Claudia earns about \$60,000 a month .
- 11- London is a beautiful and interesting city, but expensive.
- 12- My mother sister is my niece .



Answer the two sections

A) Read the passage and then answer the questions .

*My name is Adam Smith. I am 17 and an student in high school. I am planning to go college in New York. My courses in high school are Biology, Spanish, and History. Spanish is the hardest course I have been taking until now. It's my second year in school now. I love my school.*


*I live in a big house in Amsterdam. It's close to the my high school. I share my house with two different students. Their names are Bill and Paul. We love to help each other with schoolwork. Toward the end of the week, we play football.*

*I have a more youthful brother. He just began secondary school. He is 13 and lives with my parents. They live on Acardan Street in Amsterdam. Sometimes they call me and visit me in Amsterdam. I am very when they visit. My mom always brings me desserts and candy when they come. I miss them so much, as well!*

- 1- Adam smith live in -----  
a- New York . b-Zurich c- Amsterdam d- Berlin.
- 2- Biology is more difficult than history, and history is more difficult than Spanish  
a- True . b- False .
- 3- Adam shares his house with two students:  
a- Bill & Acarden . b-Candy & bill c-Bill & Paul . d-\_Acarden & Candy .
- 4- It's my ----- year in school now.  
a- First . b-Second . c-Third. D-Fourth .
- 5- What are Adam's plans?  
a- To enter a college in the United States b- To get a job  
c-To work as a language translator d- To study European studies

b) Write in one of the following topics :

- a- Finance
- b- Banks



**Assist Prof. Dr. Radhi Obaid**  
Course instructor

*Good Luck*



**Dr. Shorouk Khalaf**  
Head, Department of Finance



ملاحظة الاجابة من اربعة اسئلة فقط لكل سؤال (12.5) درجة

س1/ من بيانات جدول التوزيع التكراري التي تمثل عدد ساعات التداول في سوق العراق المالية:

ساعات التداول	2-5	6-9	10-13	14-17	18-21
عدد المشتركين	15	4	14	50	25

احسب  $M_e$  لساعات التداول في سوق العراق المالية علماً ان البيانات ذات متغير مستمر

س2/ اكمل الفراغات التالية بما يناسبها مع بيان خطوات الحل للاسئلة التطبيقية:

1. اذا كانت لدينا البيانات التالية (5، 2، 3، 10) فان قيمة التباين هي .....
2. ان صيغة الوسط الحسابي للبيانات المبوبة هي.....
3. اذا كانت لدينا البيانات التالية

$x_i$	2	1	3
$y_i$	4	5	1

فان نتيجة الصيغة

$$\frac{\sum_{i=1}^2 x_i^2}{\sum_{i=1}^3 y} + 27$$

تساوي .....

4. اذا كانت قيمة معامل الارتباط ( $r_{xy} = -0.82$ ) فهذا يعني ان هناك علاقة .....

س3/ البيانات التالية تمثل الدورة المالية في سوق الاوراق المالية في قطاع الاسكان لشهري اذار ونيسان-

2024

عدد المستثمرين	رسوم التداول/بالدولار
1000	3
1500	2.5
750	3.5
300	4

المطلوب// احسب متوسط عدد المستثمرين في قطاع الاسكان تبعاً لرسوم التداول



س4/ عند دراسة المستوى العلمي لعينة من طلبة السادس الاعدادي في مادتي الرياضيات والكيمياء كانت نتائج الطلبة كما يلي:

درجات الطلبة في مادة الرياضيات X1	75	50	82	90	45	66
درجات الطلبة في مادة الكيمياء X2	80	53	70	89	40	70


المطلوب / بين نوع العلاقة بين درجات المادتين لتحديد مستوى الطالب مع التفسير.


س5/ من النتائج التالية اوجد معادلة الانحدار الخطي البسيط مع التفسير .

$$\sum X = 2108 ; \sum Y = 5264 ; \sum XY = 1373536$$

$$\sum X^2 = 567498 ; n = 8$$

تمنياتنا لكم بالنجاح والتوفيق

  
م. د. شروق خلف لعلييف  
رئيس القسم

  
م. د. احمد هشام محمد  
مدرس المادة

المرحلة : الأولى  
المادة : الحاسبات  
التاريخ : ٢٠٢٤/٢٠٢٣  
الوقت : ساعتين



جامعة البصرة  
كلية الادارة والاقتصاد  
قسم العلوم المالية  
والمصرفية  
الدراسات / المسائية

( الدور الأول )

أسئلة الامتحان النهائي للعام الدراسي ٢٠٢٣/٢٠٢٤

ملاحظة: الأجابة على خمسة أسئلة فقط - لكل سؤال (١٠) درجة

س١/ لا تخلو أي تكنولوجيا مفيدة من الجوانب السلبية المصاحبة لاستعمالها والتي من الواجب الحد منها ، وضح بالتفصيل أبرز مساوئ استخدام الأنترنت.

س٢/ أجب بكلمة صح أو خطأ / ( لكل فقرة (٢) درجة)

١. من مكونات الحاسوب الرئيسية هي المعالج والذاكرة الرئيسية والقرص الصلب .
٢. يمكن تعريف نظام التشغيل بأنه مجموعة من برامج التحكم لا يضعها المصممون لضبط تشغيل جهاز الحاسوب .
٣. يتم تطوير نظام التشغيل باستخدام لغة برمجة عالية المستوى مثل C++ .
٤. في أنظمة المشاركة الزمنية يبدأ المعالج بتنفيذ أحد البرامج، وإذا توقف البرنامج لأي سبب كان يقوم المعالج بالبدء بتنفيذ برنامج آخر.
٥. تعتبر الاجهزة الملحقة والمحولات من المكونات الثانوية التي تحتويها بعض شبكات الحاسوب .

س٣/ أملئ الفراغات التالية بما يناسبها من العبارات / (لكل فقرة (٢) درجة)

١. هي بطاقة تثبت بالحاسوب لتهيئته للاتصال بالشبكة .....
٢. الأجهزة التي تستخدم لربط حاسبات الشبكة ببعضها البعض هي .....
٣. هناك مجموعة من الاجهزة المختلفة التي تكون شبكة الحاسوب بعضها يمثل مكونات .....
٤. استخدم مربع البحث في نظام ويندوز في حال نسيت اسم و مكان حفظ ملف معين فمثلاً إذا اردت البحث عن صورة تكتب .....
٥. هي الوسائل التي يتم بواسطتها تبادل البيانات بين الحاسوب الرئيسي والحواسيب الفرعية.

س٤/ اختر الأجابة الصحيحة من بين الأقواس / (لكل فقرة (٢) درجة)

- ١- ..... ونعني بها استخدام قاعدة بيانات واحدة تحتوي على جميع المعلومات يستخدمها جميع المتصلين بالشبكة .

( الانترنت - المشاركة في البيانات- الحاسوب الرئيسي )



٢- ..... ويمثل الانترنت ملايين الناس المرتبطين ببعضهم البعض من خلال شبكة حاسبات آلية .  
( أشخاص - العملاء - المعلومات )

٣- هناك مجموعة من الأجهزة والأدوات اللازم توفرها ليتمكن المستخدم من الاتصال بشبكة الإنترنت وهي .  
( الطابعة - بطاقة الشبكة - المعالج )

٤- وهي مجموعة من الشبكات المعلوماتية المحلية والعالمية المربوطة ببعضها البعض بغرض التواصل .  
( الموزع - أجهزة - بروتوكول الإنترنت )

٥- يمكن تصنيف شبكات الحاسوب بأبسط أشكالها بناء على .  
( علاقة الأنظمة ببعضها - نوع وسيلة الأتصال - طرق التوصيل والهيكلية - جميع ما ذكر )

س٥/ هناك مجموعة من الأجهزة والأدوات اللازم توفرها ليتمكن المستخدم من الاتصال بشبكة  
الانترنت والاستفادة من إمكاناتها هي مستلزمات الانترنت :

س٦/ وضح المفاهيم والمصطلحات التالية: (لكل فقرة (٢.٥) درجة)


١- أنظمة متعددة البرامج


٢- محطات العمل

٣- محولات الشبكة

٤- الخادم

مع تمنياتي لكم بالنجاح

  
أ.د. شروق خلف  
رئيس القسم

  
م.م أسراء خيرى عبد  
مدرس المادة



المادة : مبادئ المحاسبة  
المرحلة : الاولى  
الوقت : ساعتان  
التاريخ : 2024 / 5 / 12



جامعة البصرة  
كلية الإدارة والاقتصاد  
قسم العلوم المالية والمصرفية  
الدراسات الصباحية والمسائية

اسئلة الامتحانات النهائية للكورس الثاني / الدور (الدرج) للعام الدراسي 2023 - 2024

ملاحظة : الاجابة عن اربعة اسئلة فقط (( توزع الدرجات بالتساوي )) .

س1/ اجب عن كل مما يأتي :

- أ- تحدث عند عملية بيع الموجودات الثابتة عدة احتمالات اذكرها بالتفصيل؟ مع ذكر القيود المحاسبية لكل احتمال ؟  
ب- ماذا نقصد بمصاريف القطع وممن تتكون هذه المصاريف اشرحها بالتفصيل ؟

س2// ظهرت الارصدة التالية في سجلات شركة الفرات التجارية

8,000,000 سيارات , 12,000,000 مكائن , 6,000,000 اجهزة , 4,000,000 اثاث , الآلات 7,000,000

- 1- بتاريخ 2023/6/10 باعت الشركة نصف المكائن بخسارة مقداره 25% من سعر البيع نقدا.  
2- بتاريخ 6/12 اشترت الشركة اجهزة بمبلغ 4,000,000 بشيك ودفعت الشركة اجور نقل 200,000 دينار نقدا  
3- بتاريخ 6/23 تم استبدال الاثاث بأخر جديد وقد دفعت الشركة مبلغ 3,000,000 دينار نقدا وتنجت عن عملية الاستبدال خسارة مقدارها 1,000,000 دينار  
4- بتاريخ 6/25 باعت الشركة 30% من الآلات بريح مقداره 10% من القيمة الدفترية نقدا .  
5- 6/30 تم بيع الاجهزة القديمة بسعر 8,000,000 دينار بشيك بريح مقداره 25% من سعر البيع

المطلوب // تسجيل قيود اليومية في سجلات شركة الفرات؟

س3/ تمنح شركة وارث التجارية خصم كمية الى عملائها وفق النسب التالية :

لا شيء على 200,000 دينار الاولى

2% على 1,000,000 دينار الثانية

4% على 2,000,000 دينار الثالثة

6% ما زاد عن 2,000,000 دينار

- 1- بتاريخ 2022/7/1 اشترى التاجر زيد بضاعة من التاجر حيدر بمبلغ 9,000,000 دينار بخصم تجاري 5% وبشروط دفع 5/4 , 10/3 , ن/30 .  
2- 7/2 باعت الشركة بضاعة بمبلغ 8,500,000 دينار بالأجل الى التاجر زيد .  
3- 7/4 اشترى التاجر حيدر بضاعة من شركة وارث بمبلغ 11,500,000 دينار بالأجل .  
4- 7/7 سدد التاجر زيد الدين المترتب بذمته الى التاجر حيدر نقدا .  
5- 7/9 تبين انا هناك بضاعة تالفة بمبلغ 100,000 دينار قام التاجر زيد بإرجاعها الى الشركة .  
6- 7/12 سدد التاجر حيدر الدين المترتب بذمته بشيك الى الشركة .  
7- 7/15 سدد التاجر زيد الرصيد المتبقي بذمته نقدا .

م// تسجيل قيود اليومية اللازمة في دفاتر كل من شركة وارث والتاجر زيد على فرض :

- 1- تم الاتفاق مع التاجر زيد على احتساب خصم الكمية عند التسديد .  
2- تم الاتفاق مع التاجر حيدر على احتساب خصم الكمية عند كل عملية شراء .



س4/ توفرت لديك البيانات التالية .

- 1- بتاريخ 2021/3/1 باعت شركة الافاق التجارية بضاعة الى التاجر علاء بمبلغ 8,000,000 وبخصم تجاري 5% بالأجل
  - 2- 2021/3/3 سدد التاجر علاء الدين المترتب عليه على الشكل التالي :
    - أ- دفع مبلغ 2,000,000 دينار بشيك .
    - ب- حرر كمبيالة تستحق السداد بتاريخ 6/5 .
    - 3- 3/4 تم ايداع الشيك في الحساب الجاري للشركة لدى المصرف .
    - 4- 3/5 ارسلت شركة الافاق الكمبيالة الى المصرف لتحصيل قيمتها في موعد الاستحقاق .
    - 5- 6/5 رفض التاجر علاء سداد قيمة الكمبيالة الى المصرف مما جعل المصرف ان يقوم برفع دعوه قضائية وبلغت مصاريف الاحتجاج 50,000 الف دينار خصمها المصرف من حساب الشركة الجاري .
    - 6- 6/20 اتفق التاجر علاء مع الشركة على ان يقوم بدفع مبلغ 3,000,000 دينار نقدا اما الباقي فقد سدده بورقة اخرى تستحق الدفع بتاريخ 2021/8/30 وتم اضافة فوائد تأخيريه بمقدار 100,000 الف دينار .
- م// 1- تسجيل قيود اليومية اللازمة في دفاتر شركة الافاق التجارية .

س5// اجب عن الاتي

- 1- بتاريخ 2020/8/1 قررت شركة السماء التجارية استبدال احدى الآلات بأخرى جديدة قيمتها السوقية 8,000,000 دينار علما ان الشركة قدرت قيمة الاله القديمة بمبلغ 5,000,000 دينار اذا علمت ان الاله تم شراؤها بتاريخ 2020/1/1 بمبلغ 5,500,000 دينار ودفعت الشركة رسوم تسجيل بمبلغ 500,000 دينار نقدا وتم الاتفاق بين الطرفين على ان يدفع الفرق بينهما نقدا  
المطلوب // تسجيل قيود اليومية في دفاتر الشركة.

- 2- 2021/4/5 استلم التاجر عمر كمبيالة من شركة النور بمبلغ 8,000,000 دينار تستحق الدفع بتاريخ 2021/9/1 حيث قام التاجر بتاريخ 2021/7/1 بخصم الكمبيالة لدى مصرف الرافدين مقابل عمولة تحصيل 30,000 دينار ومعدل خصم 3% واستلم الصافي نقدا .  
المطلوب // تسجيل قيود اليومية في سجل التاجر عمر .

- 3- 2022/2/6 اشترى التاجر اسعد بضاعة من التاجر ماجد بمبلغ 4,000,000 دينار بشيك وقام التاجر ماجد بدفع مصاريف نقل البضاعة والبالغة 500,000 دينار نقدا .  
المطلوب // تسجيل قيود اليومية في دفاتر التاجر اسعد والتاجر ماجد.

4- تمنح شركة الرافدين التجارية خصم كمية على المبيعات وفق النسب التالية

300,000 – 700,000 %2 , 700,000 – 1,500,000 %4 ما زاد عن ذلك 6% .

- بتاريخ 2023/5/6 باعت الشركة بضاعة بمبلغ 14,000,000 دينار بالأجل للتاجر عمر وبتاريخ 5/9 سدد التاجر عمر الدين المترتب علي بشيك

المطلوب // اثبات قيد اليومية في سجلات الشركة والتاجر عمر اذا علمت ان تم الاتفاق على احتساب خصم الكمية عند الشراء


- 5- 2020/5/1 قامت منشأة واسط بأخذ قرض من مصرف النيل بمبلغ 5,000,000 دينار لمدة ستة اشهر بمعدل فأنده سنوي يبلغ 6% وبتاريخ 2020/11/1 سددت المنشأة قيمة القرض مع الفوائد بشيك

المطلوب // تسجيل قيود اليومية في دفاتر منشأة واسط ؟



رئيس القسم  
س. ا.د. منتظر فاضل سعد

مع تمنياتنا بالنجاح

  
م. قاسم محمد دهن

المرحلة : الأولى  
المادة : الحاسبات  
التاريخ : 2024-5-14  
الوقت : ساعتين



جامعة البصرة  
كلية الإدارة والاقتصاد  
قسم العلوم المالية والمصرفية  
الدراسات الصباحية/المسائية

## أسئلة الامتحان النهائي للعام الدراسي 2024/2023 الكرسي الثاني - الدور الأول

((ملاحظة: الأجوبة على خمسة أسئلة فقط - لكل سؤال (10) درجة))

س1/ أجب ب صح أو خطأ / (لكل فقرة (2) درجة)

1. في أنظمة المشاركة الزمنية يكون دور نظام التشغيل هو تحميل أكثر من برنامج إلى الذاكرة، ويبدأ المعالج بتنفيذ أحد هذه البرامج، وإذا توقف البرنامج لأي سبب كان يقوم المعالج بالبدء بتنفيذ برنامج آخر وبالتالي يتم استغلال زمن المعالج ليكون مشغولاً معظم الوقت .....
2. المعالج بشكل عام هو عبارة عن آلة الكترونية تستطيع معالجة وتخزين البيانات واطهارها للمستخدم .....
3. لربط حاسبات الشبكة مع بعضها البعض او مع الشبكات الأخرى يمكن استخدام جهاز (الموجه) .....
4. من أهم وظائف نظام التشغيل الحماية والمحافظة على أمن وتكامل المراجع والبيانات .....
5. تعد إدارة الذاكرة احدى وظائف شبكة الحاسوب .....

س2/ أملئ الفراغات التالية بما يناسبها من العبارات / (لكل فقرة (2) درجة)

1. الجهاز الذي يتم تثبيته على جهاز الحاسوب لتهيئة الاتصال بالانترنت يسمى .....
2. هي أجهزة وظيفتها الأساسية تخزين المعلومات وتقديمها إلى المستخدمين الذين يطلبون هذه المعلومات.
3. يمكن تصنيف أنظمة التشغيل وفق معايير مختلفة، حيث يمكن تصنيف أنظمة التشغيل إلى .....
4. هي أجهزة حاسوب عادية (لوحة أم ومعالج وذاكرة وقرص صلب) لكنها تكون مجهزة بمواصفات خاصة تجعلها مناسبة للمهمة التي تقوم بها.
5. هي عبارة عن أجهزة تستخدم لربط حاسبات الشبكة ببعضها البعض.

س3/ اختر الأجوبة الصحيحة من بين الأقواس / (لكل فقرة (2) درجة)

- 1- يمثل مجموعة قواعد واجراءات يتبعها الحاسوب ليتمكن من الاتصال بأجهزة الحاسوب الاخرى في الشبكة .

(الحاسوب - البروتوكول - الانترنت - جميع ما ذكر )



2- تتألف المكونات المادية في الإنترنت من أجهزة الحاسوب الملموسة ومنها.

(الخوادم - المتصفحات - شبكة الحاسوب - جميع ما ذكر )

3- يمثل شبكة عالمية من الروابط بين الحواسيب تسمح للناس بالاتصال والتواصل مع بعضهم البعض.

( الإنترنت - المتصفح - الحاسوب الرئيسي - جميع ما ذكر )

4- تحتوي على برامج التصفح (المستعرض) للتمكن من الاتصال والإبحار في شبكة الإنترنت

والاستفادة من خدماتها.

( الشبكة - العملاء - خطوط الاتصال - جميع ما ذكر )

5- هناك مجموعة من الأجهزة والأدوات اللازم توفرها ليتمكن المستخدم من الاتصال بشبكة الإنترنت

ومنها .

( الطابعة - بطاقة الشبكة - الذاكرة - جميع ما ذكر )

س4/ وضح المفاهيم والمصطلحات التالية: (لكل فقرة (2.5) درجة)

1- البروتوكول

2- محطات العمل


3- محولات الشبكة


4- الحاسوب الرئيسي

س5/ لا تخلو أي تكنولوجيا مفيدة من الجوانب السلبية المصاحبة لاستعمالها والتي من الواجب الحد منها، وضح بالتفصيل أبرز مساوئ استخدام الإنترنت.


س6/ وضح أنواع أو تصنيفات شبكات الحاسوب.

مع تمنياتي لكم بالنجاح

  
أ.د. مننظر فاضل سعد  
رئيس القسم

  
أ.م. حيدر صلاح هاشم / م.م. أسراء خيرى عبد  
مدرس المادة

المادة : الاقتصاد  
المرحلة : الاولى  
الوقت : ساعة  
التاريخ : 2024/ 5 / 16



جامعة البصرة  
كلية الإدارة والاقتصاد  
قسم العلوم المالية والمصرفية  
الدراسات الصباحية والمسائية

اسئلة الامتحان / الكورس الثاني الدور الأول / للعام الدراسي 2024/2023

ملاحظة: الإجابة عن أربعة أسئلة فقط، توزع الدرجات بالتساوي لكل سؤال (12.5) وتكون الإجابة بالقلم الجاف الأسود والازرق حصراً

1

س1/

إذا توفرت لديك البيانات التالية عن عائلة تخطط لاستهلاك 370 دولار عندما يكون الدخل المتاح القابل للتصرف فيه 400 دولار، وتخطط لاستهلاك 450 دولار عندما يكون الدخل المتاح للتصرف فيه 500 دولار، وتخطط لاستهلاك 530 دولار عندما يكون الدخل المتاح القابل للتصرف 600 دولار؟  
المطلوب: إيجاد APC, MPC, APS, MPS

$$C=200+0.80Y$$

س2/ إذا توفرت لديك البيانات التالية

$$I=160$$

$$G=250$$

$$X=2000$$

$$M=2250$$

المطلوب إيجاد الدخل التوازني

س3: إذا توفرت لديك البيانات التالية (دولار)

$$C = 40 + 0.75Y$$

$$I=60$$

المطلوب: ايجاد

1- المستوى التوازني للدخل

2- مستوى الاستهلاك عند التوازن

3- مستوى الادخار عند التوازن

س4: اختر الإجابة الصحيحة :

- 1- يرى الكلاسيك ان الاقتصاد يعود الى المستوى التوازني في حالة ؟  
أ- اقل من التوظيف الكامل ب- التوظيف الكامل ج- لاشيء مما نكر
- 2- ان فرض ضريبة على أصحاب الخول المنخفضة يقود الى؟  
أ- زيادة الاستهلاك والإنتاج ب- زيادة الادخار والاستثمار ج- انخفاض الاستهلاك والإنتاج
- 3- تمثل B (بيتا) في دالة الاستهلاك MPC وتكون قيمتها؟  
أ- تساوي واحد ب- اكبر من الواحد ج- بين الصفر والواحد



- 4- يبين قانون ساي بان السلع المنتجة في اقتصاد ما سيتم شرائها تلقائياً بموجب؟  
 أ- اقتصاديات الحجم ب- الطلب يخلق العرض عليه ج- العرض يخلق الطلب عليه  
 5- يلعب الأساس النقدي دوراً مهماً في حجم الودائع الجديدة التي تخلقها البنوك التجارية ومن ثم فهو يؤثر على؟  
 أ- الطلب على النقود ب- الاحتياطيات لدى البنك المركزي ج- عرض النقد د- لا شيء مما ذكر  
 6- العناصر التي تدخل ضمن عرض النقد الضيق  $M1$ ؟  
 أ- قابلة للتسييل بخسارة ب- قابلة للتسييل ولكنها تحتاج مدة زمنية ج- تتمتع بالسيولة الكاملة د- لا شيء مما ذكر  
 7- يستطيع البنك المركزي التحكم في عرض النقد من خلال؟  
 أ- خلق الودائع ب- زيادة الائتمان ج- الأساس النقدي د- لا شيء مما ذكر  
 8- يكون الميل الحدي للاستهلاك  $MPC$  ثابتاً لأن؟  
 أ- دالة الاستهلاك لوغاريتمية ب- دالة الاستهلاك أسية ج- دالة الاستهلاك خطية  
 9- ان حساب الدخل القومي بطريقة الدخل الموزعة تقوم على أساس؟  
 أ- مجموع الاتفاقات على السلع والخدمات ب- مجموع القيم المضافة في كل القطاعات ج- جمع دخول عوامل الإنتاج


10- عندما يكون  $APC$  أكبر من الواحد فهذا يعني ان؟

أ- الاستهلاك اقل من الدخل ب- الاستهلاك يساوي الدخل ج- الاستهلاك أكبر من الدخل

س5: السياسة النقدية هي جزء من السياسة الاقتصادية للدولة، والبنك المركزي هو المسؤول عن تلك السياسة من أجل تنظيم سوق النقد والائتمان لتحقيق الأهداف الاقتصادية للدولة؟ وضح وبشكل مفصل

1- وظائف البنك المركزي


2- أهداف السياسة النقدية



الأستاذ الدكتور

منتظر فاضل سعد البطاط

رئيس القسم



المدرس الدكتور

ازهار عبد اللطيف

مدرس المادة



الأستاذ المساعد الدكتور

احمد جبر سالم العبوده

مدرس المادة

جامعة البصرة

كلية الادارة والاقتصاد

قسم العلوم المالية والمصرفية

الدراسات الصباحية والمسائية



المرحلة : الاولى

المادة: ادارة الاعمال

الزمن: ساعتين

التاريخ: 2024 / 5 / 5

الامتحان النهائي الكورس الثاني / الدور (1) / 2024

ملاحظة/ الاحاطة عن خمسة اسئلة فقط (توزع الدرجات بالتساوي)

س1: اجب عما يأتي:

أ. بصفتك أحد المتخصصين في ادارة الاعمال قدم ورقة تستعرض فيها النظريات السلوكية في القيادة من خلال شرحها بالتفصيل؟ معززاً اجابتك بالرسم أينما وجد؟

ب. عدد فقط أدوات واساليب التخطيط؟

س2: اجب عن الفرعيين التاليين:

أ. تصنف الرقابة حسب موعد اجرائها الى عدة انواع وضحها بالتفصيل معززاً اجابتك بالرسم؟

ب. استخدم المقارنة لتوضيح اهم الفروقات بين القائد والمدير؟

س3: وضح الاتي:

أ: تكلم بالتفصيل عن كلاً مما يأتي معززاً اجابتك بالرسم.

1. الاجزاء الاساسية للمنظمة. 2. مراحل العملية الرقابية.

ب: لكي يكون نظام الرقابة فعالاً ومحققاً للأهداف التي صممت لآجلها يجب ان يتميز بعدة

خصائص عددها فقط؟

س4: اجب عما يأتي :

أ. قدم الباحثون المستوى الخامس للقيادة في بيئة العمل الجديدة باعتباره اعلى مستوى في

هرم قابليات المدراء وضح هذه المستويات معززاً اجابتك بالرسم؟

ب : ماهي مزايا وعيوب الإدارة بالأهداف، وضح ذلك؟



س5: اجب عما يأتي:

أ. عدد فقط اهم المجالات التي توضع لها اهداف وفق ما اشار اليها الباحث Drucker؟

ب. وضح من خلال الرسم فقط ما يلي:

1. مقارنة بين التصميم العضوي والميكانيكي.

2. نظام الرقابة.

س6: وضح الاتي :

أ. دورة حياة المنظمة تمثل تطور مرحلي للمنظمة في مختلف مراحل نموها. وضح ماذا

يقصد بدورة حياة المنظمة وماهي هذه المراحل؟

ب. للخطط انواع عديده وتختلف باختلاف طبيعة المعايير المستخدمة للتصنيف، وضح ماهي

انواع هذه الخطط بالتفصيل؟


مع خالص تمنياتنا لكم بالنجاح

مدرسات المادة:




أ.د. منتظر فاضل سعد


رئيس القسم



م.م. هبة ياسين عبد الله



م.م. دعاء شهيد حبيب



م.ميادة كاظم نتوش



University of Basrah  
College of Administration and Economics  
Department of Financial & Banking Sciences  
Final Exam – Second Semester  
~~\* First Attempt \*~~  
2023 – 2024



Course Name: English -First Stage      Date: 21/ 5 /2024      Total Mark:50      Time: 2 hours

Name \_\_\_\_\_

Notes : \* Answer Four (4) questions only .

\*\* Answer with pen only.

\*\*\* (12.5 M. for each question)

Q1) Choose the correct answer from the options:

- 1- There ( a- are b- is c- am ) a lot of information in this book.
- 2- Look at ( a- those b- this c- that ) pupils.
- 3- Would you like ( a- some b- any c- a ) coffee?
- 4- Twenty five to ten = ( a- 9:35 b- 10:25 c - 9: 40)
- 5-  $12\frac{1}{2}$  = ( a- eleven and half b- twelve and half c- quarter and twelve )
- 6- Jamal likes swimming, ---- he dislikes running . ( a- and b- but c- because)
- 7- Babur Ali comes from ---- Bengal. ( a- east b- west c- north )
- 8- It is one of the largest deserts in the United States.  
( a- Sonora Desert b- Mojave Desert c- southwest Arizona desert )

Q2 ) Do as required .

- 1- The sun ..... (rise) in the east . ( Present simple)
- 2- He is not = ..... ( Abbreviation)
- 3- 19 = nineteen , 45 = ..... ( Number)
- 4- € 10. 4 = ..... ( Currency )
- 5- He works at Basra airport ----- . ( Write the job )
- 6- Leave the papers ----- the table. ( Use suitable preposition)
- 7- My mother's sister is my ----- . ( Family)
- 8- pavement , traffic light , sofa. (Odd word)

Q3 ) Match the sentences in line (A) with sentences in line (B).

A		B	
1	<u>You</u>	A	Adverb with Adjective
2	will never <u>know</u>	B	<b>Pronoun</b>
3	the value <u>of</u>	C	Verb
4	a moment, until it becomes a <u>memory</u>	D	<b>Preposition</b>
5	a <u>small</u> school	E	Noun
6	<u>But</u> he play good	F	Adjective
7	<u>Sometimes</u>	G	<b>Conjunction</b>
8	This house is <u>really big.</u>	H	Adverb



**Q4) Determine whether the statement is true or false, then correct the false .**

- 1- Rick's father is salesman.
- 2- Claudia Luke studies snakes and another animals.
- 3- The Underground is easy to use .
- 4- Babur's school has 650 students .
- 5- Babur's village has a school.
- 6- Andrew Johnson goes to the cinema in his free time .
- 7- The student in Annalisa's class are all from Europe .
- 8- The National Gallery is expensive.

**Q5) Write an article on one of the following topics : ( Just one )**

- a- Finance
- b- Bank



Assist .Lect.Siham Nasir  
Course instructor

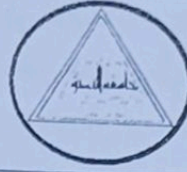
*Good Luck*

Assist Prof. Dr. Radhi Obaid  
Course instructor



Prof. Dr. Muntadhar S. Albattat  
Head Department

المادة : الاقتصاد  
المرحلة : الاولى  
الوقت : ساعة  
التاريخ : 2024/5/16



جامعة البصرة  
كلية الإدارة والاقتصاد  
قسم العلوم المالية والمصرفية  
الدراسات الصباحية والمسائية

اسئلة الامتحان / الكورس الثاني الدور الأول / للعام الدراسي 2024/2023

ملاحظة: الإجابة عن أربعة أسئلة فقط، توزع الدرجات بالتساوي لكل سؤال (12.5) وتكون الإجابة بالقلم الجاف الأسود والازرق حصراً

1

س1/

إذا توفرت لديك البيانات التالية عن عائلة تخطط لاستهلاك 370 دولار عندما يكون الدخل المتاح القابل للتصرف فيه 400 دولار، وتخطط لاستهلاك 450 دولار عندما يكون الدخل المتاح للتصرف فيه 500 دولار، وتخطط لاستهلاك 530 دولار عندما يكون الدخل المتاح القابل للتصرف 600 دولار؟  
المطلوب: إيجاد APC, MPC, APS, MPS

$$C=200+0.80Y$$

س2/ إذا توفرت لديك البيانات التالية

$$I=160$$

$$G=250$$

$$X=2000$$

$$M=2250$$

المطلوب إيجاد الدخل التوازني

س3: إذا توفرت لديك البيانات التالية (دولار)

$$C = 40 + 0.75Y$$

$$I=60$$

المطلوب: ايجاد

1- المستوى التوازني للدخل

2- مستوى الاستهلاك عند التوازن

3- مستوى الادخار عند التوازن

س4: اختر الإجابة الصحيحة :

- 1- يرى الكلاسيك ان الاقتصاد يعود الى المستوى التوازني في حالة ؟  
أ- اقل من التوظيف الكامل ب- التوظيف الكامل ج- لاشيء مما نكر
- 2- ان فرض ضريبة على أصحاب الخول المنخفضة يقود الى؟  
أ- زيادة الاستهلاك والإنتاج ب- زيادة الادخار والاستثمار ج- انخفاض الاستهلاك والإنتاج
- 3- تمثل B (بيتا) في دالة الاستهلاك MPC وتكون قيمتها؟  
أ- تساوي واحد ب- اكبر من الواحد ج- بين الصفر والواحد




- 4- يبين قانون ساي بان السلع المنتجة في اقتصاد ما سيتم شرائها تلقائياً بموجب؟  
 أ- اقتصاديات الحجم ب- الطلب يخلق العرض عليه ج- العرض يخلق الطلب عليه  
 5- يلعب الأساس النقدي دوراً مهماً في حجم الودائع الجديدة التي تخلقها البنوك التجارية ومن ثم فهو يؤثر على؟  
 أ- الطلب على النقود ب- الاحتياطيات لدى البنك المركزي ج- عرض النقد د- لا شيء مما ذكر  
 6- العناصر التي تدخل ضمن عرض النقد الضيق M1؟  
 أ- قابلة للتسييل بخسارة ب- قابلة للتسييل ولكنها تحتاج مدة زمنية ج- تتمتع بالسيولة الكاملة د- لا شيء مما ذكر  
 7- يستطيع البنك المركزي التحكم في عرض النقد من خلال؟  
 أ- خلق الودائع ب- زيادة الائتمان ج- الأساس النقدي د- لا شيء مما ذكر  
 8- يكون الميل الحدي للاستهلاك MPC ثابتاً لأن؟  
 أ- دالة الاستهلاك لوغاريتمية ب- دالة الاستهلاك أسية ج- دالة الاستهلاك خطية  
 9- ان حساب الدخل القومي بطريقة الدخل الموزعة تقوم على أساس؟  
 أ- مجموع الانفاق على السلع والخدمات ب- مجموع القيم المضافة في كل القطاعات ج- جمع دخول عوامل الإنتاج  
 10- عندما يكون APC أكبر من الواحد فهذا يعني ان؟  
 أ- الاستهلاك أقل من الدخل ب- الاستهلاك يساوي الدخل ج- الاستهلاك أكبر من الدخل

س5: السياسة النقدية هي جزء من السياسة الاقتصادية للدولة، والبنك المركزي هو المسؤول عن تلك السياسة من أجل تنظيم سوق النقد والائتمان لتحقيق الأهداف الاقتصادية للدولة؟ وضح وبشكل مفصل

1- وظائف البنك المركزي


2- أهداف السياسة النقدية



الأستاذ الدكتور

منتظر فاضل سعد البطاط


رئيس القسم



المدرس الدكتور

ازهار عبد اللطيف

مدرس المادة



الأستاذ المساعد الدكتور

احمد جبر سالم العبوده

مدرس المادة



ملاحظة الاجابة عن اربعة اسئلة فقط لكل سؤال (12.5) درجة

س1/ اكمل الفراغات التالية بما يناسبها مع بيان خطوات الحل للاسئلة التطبيقية:

1. اذا كانت لدينا البيانات التالية (5، 7، 12) فان قيمة التباين هي .....
2. ان صيغة الوسط الحسابي الموزون في حالة البيانات المبوبة هي.....
3. اذا كانت لدينا البيانات التالية :

$x_i$	2	4	7
$y_i$	5	1	9

فان نتيجة الصيغة

$$\sum_{i=1}^2 X^2 - \sum_{i=1}^3 Y =$$

تساوي .....

4. اذا كان لدينا بيانات تخص التذبذبات المالية في اسواق المال وقد سجلت اسعار الاسهم التالية (200، 150، 110، 540) فان القيمة المنوالية لاسعار الاسهم تساوي .....
5. ان مجموع مربعات انحرافات القيم عن وسطها الحسابي هي .....

س2/ اذا كانت لدينا البيانات التالية التي تمثل كمية استهلاك الوقود في محافظات العراق على وفق ساعات القطع الكهربائي

المحافظة	كمية الاستهلاك Y	عدد ساعات القطع X
البصرة	1000	3
بغداد	2500	10
كربلاء	1100	8
الموصل	1700	7

المطلوب// قدر معدلة نموذج الانحدار الخطي البسيط مع التفسير.

س3/ بيانات جدول التوزيع التكراري تخضع حجم القروض الصغيرة المتحققة في احد المصارف التجارية.

حجم القرض/مليون	5 -	10 -	15 -	20 -	25 -
عدد المقترضين	60	75	7	4	8

احسب MO لحجوم الاقتراض .



س4/ اذا كان لديك جدول التوزيع التكراري الذي يمثل معلومات لاوزان عينة من طلبة المرحلة الثانوية :

الفئات	$f_i$
49 - 45	2
54 - 50	7
59 - 55	1
64 - 60	6
69 -- 65	10
74 - 70	4


المطلوب : احسب قيمة الوسط الحسابي لاوزان عينة من طلبة الدراسة الثانوية.

س5/ في احدى الدراسات المالية تم تسجيل النتائج التالية


$$\sum_{i=1}^{10} XY = 3548; \sum_{i=1}^{10} X^2 = 683; \sum_{i=1}^{10} Y^2 = 19380; \sum_{i=1}^{10} X = 73; \bar{Y} = 40.8$$

المطلوب // حدد نوعية العلاقة بين المتغيرين مع التفسير.

تمنيانا لكم بالنجاح والتوفيق



أ.د. منتظر فاضل سعد  
رئيس القسم



م.د. علي عهد الزهرة حسن  
مدرس المادة



م. احمد هشام محمد  
مدرس المادة

المادة: المحاسبة المتوسطة  
الدراسات الصباحية والمسائية  
التاريخ: 2024 / 5 / 11  
الوقت: ساعتان



أسئلة الامتحان النهائي  
للفصل الدراسي الثاني 2023-2024  
الدور الاول



جامعة البصرة  
كلية الادارة والاقتصاد  
قسم العلوم المالية  
والمصرفية

ملاحظة: 1- الإجابة عن أربعة أسئلة فقط وتوزع الدرجة بالتساوي. 2- الإجابة بقلم الأزرق او الأسود.

س1// السند هو وثيقة دين، في حين ان السهم هو وثيقة ملكية لحصة معينة في شركة ما، وكلاهما يولد أرباحاً أو خسائر، اذكر الفرق بينهما وفق الجدول التالي.

وجه الاختلاف	اسهم	سندات
الطبيعة القانونية		
العائد		
وقت تحصيل العائد		
طرق التقييم		
تاريخ الاستحقاق		

س2// في 2019/1/2 اشترت شركة البصرة ماكينة لانتاج المرطبات بمبلغ 800,000 دينار دفعت بصك. في 2019/1/5 دفعت الشركة مبلغ 200,000 دينار نقداً أجور نقل الماكينة الى المصنع. في 2019/1/7 دفعت الشركة مبلغ 500,000 دينار نقداً مقابل تركيب وتشغيل الماكينة المطلوب:

- 1- تسجيل القيود اليومية اللازمة للعمليات أعلاه.
- 2- حساب الاندثار للماكينة بجدول بطريقة القسط الثابت، اذا علمت ان العمر الإنتاجي للماكينة قدر بأربع سنوات وقيمة الانقراض 500,000 دينار.
- 3- اثبات قيد بيع الماكينة اذا علمت ان الشركة باعت الماكينة بعد انتهاء العمر الإنتاجي لها بمبلغ 300,000 دينار نقداً.

س3// في 2015/4/1 اشترت شركة الفيحاء مجموعة من السندات قيمتها الاسمية 200,000 دينار بمبلغ 240,000 دينار نقداً، وبفائدة 10% سنوياً تدفع نقداً في 4/1 من كل سنة وتستحق في 2019/4/1. المطلوب:

سنة اولي  
سنة اركي

- 1- تسجيل القيود اليومية اللازمة لعملية الشراء.
- 2- تسجيل قيود استلام الفائدة لغاية تاريخ الاستحقاق.
- 3- اثبات عملية إعادة السندات الى الجهة المصدرة بعد انتهاء اجل السندات.

س4// في 2022/2/5 اشترت شركة النورس التجارية اسهم في شركات A, B وكانت قيمة الاستثمار كالاتي:

ت	الشركة	تكلفة السهم
1	A	100,000 / نقداً
2	B	200,000 / نقداً
	الإجمالي	300,000

المطلوب:

- 1- تسجيل قيد شراء الاستثمارات في الأسهم.
- 2- تسجيل القيود الخاصة باستلام مقسوم الأرباح والبالغة 20,000 دينار والمستلمة بتاريخ 2022/7/1 نقداً.
- 3- تسجيل قيود التقييم للاستثمارات في الأسهم في نهاية السنة المالية اذا علمت ان القيمة العادلة للاسهم بلغت 400,000 دينار.




س115 في ما يلي ميزان المراجعة لشركة فستقة التجارية 2020/12/31.


اسم الحساب	الأرصدة الدائنة	الأرصدة المدينة
دائنون	4,800,000	
بضاعة اول المدة		2,000,000
مشتريات		8,000,000
مدينون		2,300,000
مبيعات	10,000,000	
م. نقل المشتريات		250,000
مردودات المشتريات	150,000	
رواتب		500,000
م. الكهرباء		700,000
خصم مسموح به		20,000
خصم مكتسب	30,000	
مردودات المبيعات		230,000
سيارات		5,000,000
مباني		5,900,000
اثاث		1,200,000
المصرف		5,300,000
الصندوق		2,000,000
ايراد أوراق مالية	50,000	
رأس المال	18,370,000	
المجموع	33,400,000	33,400,000

المطلوب:  
قيود الإقفال الخاصة بحساب المتاجرة وتصوير حساب المتاجرة عن السنة المنتهية في 2020/12/31 اذا علمت ان بضاعة اخر المدة بمبلغ 1,500,000 دينار.

مع تمنياتنا لكم بالنجاح



أ.د. منتظر فاضل سعد  
رئيس القسم



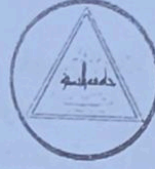
م.م. سلام صدام مهر  
مدرس المادة

جامعة مصر

كلية الادارة والاقتصاد

قسم العلوم المالية والمصرفية

الدراسات الصباحية والمسائية



المرحلة: الثانية

المادة: تجارة الكترونية

التاريخ: 5/13 / 2024

الوقت: ساعتان

العام الدراسي 2023 - 2024

الثاني  
أسئلة الامتحان النهائي للكورس الأول (الاول)

اسم الطالب ----- الشعبة -----

ملاحظة / الإجابة بالقلم الجاف وتكون على أربعة أسئلة فقط

السؤال الأول : اختر الإجابة الصحيحة ما بين الخيارات

1- يسمى الكاتالوج الذي يصمم على أساس طلب الزبون حول منتجات محددة ب-----

ا- الكاتالوج التقليدي ب- الكاتالوج الالكتروني ج- الكاتالوج الخاص

2- يطلق على الوسيط في عمليات التبادل في التجارة الالكترونية لقب -----

ا- رجل الامن ب- كاتم الاسرار ج- الضامن الرئيسي د- جميع ما سبق

3- تشمل وظيفته كل الأنشطة من طلبات التفاوض وتقييد الطلبات وإدارة عمليات التخزين ---

ا- الوسيط ب- البائع الامامي ج- البائع الخلفي

4- واحدة من وظائف السوق الالكترونية هي -----

ا- البحث عن مواقع مختلفة للمنتجات ب- تحويل عمليات الدفع بين البائع والمشتري ج- المشاركة في

المزادات المختلفة د- جميع ما سبق

5- هو محل يضم التعاملات والتعاقدات والعلاقات من اجل تبادل المنتجات والخدمات والمعلومات والأموال

ويتكون من باعة ومشتريين وسماسرة

ا- الموقع الالكتروني ب- البوابة الالكترونية ج- السوق الالكتروني

6- اكثر سلبيات التجارة الالكترونية هي :

ا- لا يمكن تجربة المنتجات ب- عدم توفر خدمة العملاء ج- تعطل الموقع الالكتروني .

السؤال الثاني : حدد اذا كانت العبارة صحيحة ام خاطئة ثم صحح الخطا ان وجد

1- ان ضابط الموطن المشترك للمتعاقدين يعد من احد ضوابط الاسناد الأساسية التي يلجا اليها القاضي عند عدم اختيار احد اطراف العقد لقانون يحكم عقدهم .

2- منذ العام 1992 أصبحت معظم الشركات الكبيرة والمتوسطة لها موقع الكتروني .

3- هناك عدة أنواع للتجارة ف اذا كانت التجارة تجرى داخل حدود البلد فاتها تسمى تجارة المفرد .

4- ان C 2 B يقصد بها نوع من أنواع التبادل في التجارة الالكترونية يتم ما بين مؤسسات الاعمال ب اعتبارها الطرف البائع والحكومة ب اعتبارها الطرف المشتري .

5- لدى شركة جنرال موتورز اكثر من 18000 صفحة على موقعها الالكتروني واكثر من 98000 رابط لمنتجات الشركة وخدماتها ووكلائها .

6- من اهم نقاط الاهمية للتجارة الالكترونية للشركات انها ساعدت ربات البيوت بتحقيق دخل إضافي دون اللجوء الى الخروج من منازلهن .




السؤال الثالث : اكتب في مقال لا يقل عن صفحتين حول مفهوم العقد الالكتروني , وعدد خصائص العقود الالكترونية , وهل تعد العقود الالكترونية عقود اذعان ام عقود رضائية ؟ وكيف يتم التمييز بين العقود التي تتم داخل الشبكة الالكترونية والعقود التي تتم من خلال البريد الالكتروني ؟ مع ذكر الأمثلة .

السؤال الرابع : اكمل الفراغات التالية بالعبارات المناسبة :

- 1- هو عبارة عن علامة شخصية تتخذ شكل حروف او ارقام او رموز او إشارات او أصوات او غيرها وتكون ذات طابع منفرد يدل على صاحبة ويتم اعتماده من جهة التصديق -----
- 2- هو كل وثيقة مستخرجة من وسائل الاتصال العلمي الحديثة كالفاكس والتليكس والحاسب الآلي وتكون مادة قابلة للتمغنط ويقسم الى قسمين رسمي وعادي -----
- 3- هناك عدة استثناءات طبقها القانون عند التعامل بالعقود الالكترونية حيث استثنى القانون العراقي المسائل المتعلقة ب -----
- 4- هي مدخل موحد للوصول الى جميع الخدمات والمعلومات التي توفرها الشبكة المعلوماتية ومنها ما يكون تجاري او شخصي او تعاوني او للنشر -----
- 5- هم عبارة عن مجاميع تستطيع ان تخترق نظام الشركة من خلال رموز وأرقام واستخدام معلومات من خلالها يتم تتبع الدخول الى هذا النظام وسرقة المعلومات وهم يمثلون خطرا على الشركات التي تعمل بالتجارة الالكترونية -----

السؤال الخامس : اجب عن النقاط التالية


- 1- تحدث عن وظائف الوسيط بالتفصيل
- 2- في حالة حدوث نزاع حول عملية تبادل الكتروني بين بائع من الصين ومشتري من العراق علما ان الخلل كان من البائع وتمت كتابة العقد في مؤسسة لكتابة العقود في النرويج . ما هو القانون الذي يتم تطبيقه لحل هذا الخلاف كوسيلة لتسوية المنازعات؟ وما هي الدلائل القانونية التي تستند لها في اجابتك .
- 3- تحدث من الناحية التاريخية عن بدايات ظهور التجارة الالكترونية على مدى عدة مراحل مختلفة .




أ.د. منتظر فاضل سعد

رئيس القسم

تمنيانا لكم بالنجاح والتوفيق



مدرس المادة



أ.م.د. راضي مجيد رخيص

مدرس المادة




المادة : الأساليب الكمية

المرحلة : الثانية

التاريخ : 5 / 5 / 2024

الوقت : ساعتين



وزارة التعليم العالي والبحث العلمي

جامعة البصرة

كلية الإدارة والاقتصاد

قسم العلوم المالية والمصرفية

الدراسة الصباحية والمسائية

اسئلة الامتحان النهائي الكورس الثاني (الدور الأول) للعام 2024/2023

ملاحظة : الاجابة عن اربعة اسئلة فقط وتوزع الدرجات بالتساوي والاجابة تكون بالقلم الجاف الأزرق أو الاسود

س1 // اختر رمز الاجابة الصحيحة لكل من النقاط الآتية :

1. من مميزات الشكل الاعتيادي لنموذج البرمجة الخطية :  
أ- دالة الهدف من نوع  $Min. Z$  .  
ب- قيود النموذج من نوع معادلة .  
ج- قيود النموذج من نوع  $K$  .  
د- لا شيء مما ذكر .  
2. يتم اعتماد الطريقة البيانية في حل مسائل البرمجة الخطية في حال :  
أ- احتواء النموذج الرياضي على متغيرين فقط .  
ب- احتواء النموذج الرياضي على اكثر من متغيرين .  
ج- احتواء النموذج الرياضي على متغير واحد .  
د- لا شيء مما ذكر .
3. المتغير الخارج في Simplex Method هو المتغير :  
أ- الذي يقابل اقل رقم في عمود R.H.S .  
ب- الذي يقابل أكبر رقم بأشارة سالب في صف  $Z$  .  
ج- الذي يقابل أكبر حاصل قسمة في عمود Ratio .  
د- لا شيء مما ذكر .
4. إذا كان القيد معادلة فإن منطقتة ستكون في الرسم البياني :  
أ- على يمين القيد .  
ب- اعلى القيد .  
ج- على يسار القيد .  
د- لا شيء مما ذكر .
5. شركة الفجاء تقوم بإنتاج نوعين من المنتجات فإذا علمت ان الكميات المباعة هي 300 وحدة من النوع الاول و 100 وحدة من النوع الثاني , وإذا علمت أيضا ان دالة هدف الشركة هي  $Max. Z = 2X_1 + 3X_2$  فما هو مقدار ربح الوحدة الواحد من النوع الأول فقط :  
أ- \$ 600 .  
ب- \$ 900 .  
ج- \$ 300 .  
د- لا شيء مما ذكر .

س2 // شركة النور تقوم بإنتاج ثلاث سلع حيث تتطلب كل سلعة المرور عبر ثلاثة مراحل إنتاجية والجدول الآتي يبين عدد الساعات المتاحة في المراحل الإنتاجية وكلفة الوحدة الواحدة لكل سلعة :

السلعة	المرحلة الإنتاجية	الاولى	الثانية	الثالثة	الساعات المتاحة
المرحلة الإنتاجية	الاولى	2	3	4	لا تقل عن 60 ساعة
المرحلة الإنتاجية	الثانية	1	1	3	لا تقل عن 40 ساعة
المرحلة الإنتاجية	الثالثة	2	1	2	أقل من 20 ساعة
كلفة الوحدة الواحدة		\$6	\$8	\$7	

1. صياغة النموذج الرياضي للشركة؟
2. ما الشكل المكتوب به النموذج ولماذا؟
3. تحويل النموذج الى الاشكال الأخرى ؟



س3 // اذا توفر لديك نموذج البرمجة الخطية ادناه والخاص بشركة السماء:

$$\text{Max. } Z = 10X_1 + 8X_2$$

s.to

$$2X_1 + 2X_2 \leq 24$$

$$4X_1 + 8X_2 \leq 80$$

$$X_1, X_2 \geq 0$$

المطلوب : بيان الحجم الامثل الذي يمكن ان تنتجه شركة السماء من كلا السلعتين والذي يحقق اعلى ربح باستخدام الطريقة البيانية (Graphical Method)؟

س4 // حول نموذج البرمجة الخطية الاتي الى الشكل المعياري :

$$\text{Min. } Z = 5X_1 + 6X_2$$

s.to

$$3X_1 + 6X_2 \geq -100$$

$$|4X_1 + 8X_2| = 90$$

$$5X_1 + 10X_2 \leq |200|$$

$$X_1, X_2 \geq 0$$

س5 // اذا توفر لديك نموذج البرمجة الخطية الاتي :

$$\text{Max. } Z = 30X_1 + 18X_2$$

s.to

$$X_1 + 2X_2 \leq 200$$


$$3X_1 + 2X_2 \leq 300$$

$$2X_1 + 3X_2 \leq 400$$

$$X_1, X_2 \geq 0$$

المطلوب : جد الحل الامثل للنموذج اعلاه باستخدام الطريقة المبسطة (Simplex Method) ؟

مع تمنياتي لكم بالنجاح



أ.د. منتظر فاضل سعد البطاط  
رئيس القسم



م.م. عبدالله محمد راضي الموسوي  
مدرس المادة

المرحلة: الثانية  
المادة: الإدارة المالية  
التاريخ: 15/11/2024  
الوقت: ساعتان



جامعة البصرة  
كلية الإدارة والاقتصاد  
قسم العلوم المالية والمصرفية  
الدراسات الصباحية والمسائية

أسئلة امتحانات النهائية الكورس الثاني الدور (الأول) للعام الدراسي 2023-2024  
ملاحظة: الإجابة عن أربعة أسئلة فقط وبالقلم الجاف.  
س1 / هنالك أربعة مصادر للمعلومات تحتاجها الإدارة لتحليل المعلومات الانتمائية عددها مع الشرح المفصل.

س2/ توفرت لديك ائتمومات الآتية عن احدى الشركات الصناعية.  
الاحتياجات السنوية من مادة معينة 144000 وحدة  
تكاليف التخزين 5%  
سعر الوحدة الواحدة 1000 دينار  
المخزون الاحتياطي 12000 وحدة  
تكاليف اعداد الطلبية الواحدة 1000 دينار  
Lead Time: 3

المطلوب

EOQ -1

N -2

Average Inventory-3

TF-4

CC-5

TC-6

The Reorder point -7

The Reorder Time-8

Daily Usage -9

س3/ اجب عن الآتي:-


- 1- ما هي الفائدة الفعلية على قرض برصيد معوض بنسبة 20% وذو فائدة تدفع في نهاية المدة، معدل الفائدة الاسمي على هذا القرض 15% ومبلغ القرض 10000000 دينار، ومدة القرض سنة واحدة.
- 2- ما هي الفائدة الفعلية على قرض برصيد معوض بنسبة 20% وذو فائدة مخصومة، معدل الفائدة الاسمي على هذا القرض 25% ومبلغ القرض 10000000 دينار، ومدة القرض سنة واحدة.
- 3- ما هي الفائدة الفعلية على قرض مقسط وذو فائدة تدفع في نهاية المدة، معدل الفائدة الاسمي على هذا القرض 10% ومبلغ القرض 10000000 دينار، ومدة القرض سنة واحدة.
- 4- ما هي الفائدة الفعلية على قرض مقسط وذو فائدة مخصومة، معدل الفائدة الاسمي على هذا القرض 10% ومبلغ القرض 10000000 دينار، ومدة القرض سنة واحدة.




س4 / تدرس شركة تعديل شروط الائتمان بالبيع الاجل بتعديل فترة الائتمان من صافي 30 إلى صافي 60 يوم وتتوقع الشركة زيادة المبيعات بنسبة 20% عن المبيعات الحالية علماً أن المبيعات الحالية 1600000 دينار كما بلغت نسبة عائد المساهمة 60%، نسبة الديون المعدومة 5%، معدل العائد المطلوب 20%، هل تتفق مع الشركة بتعديل شروط الائتمان علماً أن متوسط فترة التحصيل تزداد من 30 يوم إلى 50 يوم.

س5 / احسب كلفة الائتمان التجاري الذي حصلت عليه شركة الفيحاء بالشروط الآتية: -

1	1.5% / 10 صافي 25
2	2.5% / 15 صافي 30
3	3.5% / 15 صافي 90

  
رئيس القسم  
أ.د. منتظر فاضل سعد

مع تمنياتي لكم بالتوفيق

  
مدرس المادة  
أ.م. د. محمد جاسم محمد

المرحلة: الثانية  
المادة: الإدارة المالية  
التاريخ: 15 / 11 / 2024  
الوقت: ساعتان



جامعة البصرة  
كلية الإدارة والاقتصاد  
قسم العلوم المالية والمصرفية  
الدراسات الصباحية والمسائية  
أسئلة امتحانات النهائية الكورس الثاني الدور (الأول) للعام الدراسي 2023-2024

(توزع الدرجات بالتساوي)

ملاحظة: الإجابة عن أربعة أسئلة فقط وبالقلم الجاف.

س1 / هنالك أربعة مصادر للمعلومات تحتاجها الإدارة لتحليل المعلومات الانتمائية عددها مع الشرح المفصل.

س2/ توفرت لديك المعلومات الآتية عن إحدى الشركات الصناعية.  
الاحتياجات السنوية من مادة معينة 144000 وحدة  
تكاليف التخزين 5%

سعر الوحدة الواحدة 1000 دينار

المخزون الاحتياطي 12000 وحدة

تكاليف اعداد الطلبية الواحدة 1000 دينار

Lead Time: 3

المطلوب

EOQ -1

N -2

Average Inventory-3

TF-4

CC-5

TC-6

The Reorder point -7

The Reorder Time-8

Daily Usage -9

س3/ اجب عن الآتي: -

1- ما هي الفائدة الفعلية على قرض برصيد معوض بنسبة 20% وذو فائدة تدفع في نهاية المدة، معدل الفائدة

الاسمي على هذا القرض 15% ومبلغ القرض 10000000 دينار، ومدة القرض سنة واحدة.

2- ما هي الفائدة الفعلية على قرض برصيد معوض بنسبة 20% وذو فائدة مخصومة، معدل الفائدة الاسمي على

هذا القرض 25% ومبلغ القرض 10000000 دينار، ومدة القرض سنة واحدة.

3- ما هي الفائدة الفعلية على قرض مقسط وذو فائدة تدفع في نهاية المدة، معدل الفائدة الاسمي على هذا القرض

10% ومبلغ القرض 10000000 دينار، ومدة القرض سنة واحدة.

4- ما هي الفائدة الفعلية على قرض مقسط وذو فائدة مخصومة، معدل الفائدة الاسمي على هذا القرض 10%


ومبلغ القرض 10000000 دينار، ومدة القرض سنة واحدة.




س4 / تدرس شركة تعديل شروط الائتمان بالبيع الاجل بتعديل فترة الائتمان من صافي 30 إلى صافي 60 يوم وتتوقع الشركة زيادة المبيعات بنسبة 20% عن المبيعات الحالية علماً أن المبيعات الحالية 1600000 دينار كما بلغت نسبة عائد المساهمة 60%، نسبة الديون المعدومة 5%، معدل العائد المطلوب 20%، هل تتفق مع الشركة بتعديل شروط الائتمان علماً أن متوسط فترة التحصيل تزداد من 30 يوم إلى 50 يوم.

س5 / احسب كلفة الائتمان التجاري الذي حصلت عليه شركة الفيحاء بالشروط الآتية: -

1	1.5% / 10 صافي 25
2	2.5% / 15 صافي 30
3	3.5% / 15 صافي 90

  
رئيس القسم  
أ.د. منتظر فاضل سعد

مع تمنياتي لكم بالتوفيق

  
مدرس المادة  
أ.م. د. محمد جاسم محمد

المادة: التسويق المصرفي

المرحلة: الثانية

التاريخ: 20/ 5 / 2024

الوقت : ساعتان



وزارة التعليم العالي والبحث العلمي

جامعة البصرة

كلية الادارة والاقتصاد

قسم العلوم المالية والمصرفية

الدراسات الصباحية والمسائية

اسئلة الامتحان النهائي الدور ( الاول ) للعام 2023/2024  
الكورس الثاني

ملاحظة : الاجابة عن اربع اسئلة فقط

س ١ / بسفتك احد المهتمين بدراسة التسويق المصرفي قدم ورقة تسلط الضوء فيها على المقصود بدورة حياة الخدمة المصرفية موضحاً أهميتها ومميزات ومؤشرات كل مرحلة ؟

س ٢ / اجب بكلمة صح او خطأ مع تصحيح العبارات الخاطئة ان وجدت ؟

١. ان من اهداف التسويق المصرفي انه يحقق التوازن بين اهداف المصرف واهداف العميل ؟
٢. ان من مزايا التسويق الالكتروني للمصارف انه يعمل على تخفيض كلفة الحصول على الخدمات المصرفية؟
٣. تحتاج الخدمة المصرفية الى مهارة لتحويل الجانب غير الملموس الى جانب ملموس ؟
٤. يعتبر التوزيع احد عناصر المزيج التسويقي ويعد المرحلة الاولى في العملية التسويقية ؟
٥. نقصد بالتماثل بالخدمة المصرفية هو الحاجة اسلوب تسويقي واحد؟

س ٣ / ماهو مفهوم الخدمة المصرفية ؟ وماهي ابرز خصائصها عددها مع الشرح ؟

س ٤ / اختر الاجابة الصحيحة للعبارات التالية ؟

١. عدد الخدمات المصرفية في خط الخدمة الواحد .  
أ-طول خط المزيج      ب- عمق الخط المزيج      ج- اتساع المزيج
٢. مجموعة من منافع المادية مباشرة التي يسعى الزبون للحصول عليها من خلال شراء الخدمة .  
أ-البعد المنفعي      ب- البعد السماتي      ج- البعد المادي
٣. التعرف على حاجات ورغبات الزبائن عن طريق اجراء البحوث السوقية يتم في مرحلة  
أ.الاتصال      ب- ما بعد البيع      ج- الاعداد.
٤. تتكون البيئة التسويقية الكلية للمصرف من :  
أ-المصرف      ب-المنافسون      ج- العوامل السكانية.
٥. تتلخص اهداف بحوث التطوير بـ  
أ-انتاج خدمات مصرفية جديدة      ب- تحسين جودة الخدمات المصرفية الحالية ( ج- كل ما ذكر سابقا ) .

س ٥ / في ضوء دراستك للتسويق المصرفي الالكتروني اجب عن الاسئلة التالية بشكل مفصل :

- أ- مزايا التسويق المصرفي الالكتروني للعملاء ؟
- ب- مراحل نموذج التسويق المصرفي الالكتروني ؟

أ.د منتظر فاضل سعد

رئيس القسم

مع تمنياتنا لكم بالتوفيق والنجاح

م.م زين العابدين عبد الله

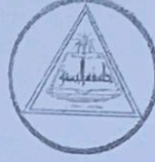
مدرس المادة

م.م مرتضى عبد الحسين عبد الكريم

مدرس المادة



المرحلة : الثانية  
المادة : المؤسسات المالية والمصرفية  
التاريخ : 2024 / ٥ / ٢٢  
الوقت : ساعتين



جامعة البصرة  
كلية الإدارة والاقتصاد  
قسم العلوم المالية والمصرفية  
الدراسات الصباحية و المسائية

أسئلة الامتحان النهائي / الفصل الثاني - الدور (الاول)

الاسم ..... الرقم ..... الشعبة .....

ملاحظة: الاجابة عن خمسة اسئلة فقط وتوزع الدرجة بالتساوي.

س1/ قارن بين البنوك التجارية التقليدية والبنوك الإسلامية من حيث

1- أوجه التشابه او الاتفاق فيما بينهما

2- أوجه الاختلاف بين البنوك التجارية والإسلامية

س2/ اذا كانت الوديعة الجارية الأولى في البنوك التجارية هي 2000 دينار وكانت نسبة الاحتياطي القانوني كما يلي

1- في المرحلة 1 - 3 هي 30%

2- في المرحلة 4 - 5 هي 15%

3- في المرحلة 6 - 8 هي 20%

المطلوب

1- انشاء جدول يبين كيفية خلق النقود في المصارف التجارية لغاية المرحلة الثامنة

2- ما مقدار النقود القانونية

3- احسب مقدار النقود المصرفية التي تخلقها البنوك التجارية

س3/ نفرض ان التاجر محمد أمن على بضاعة ضد الحريق لدى مؤمنين بالمبالغ 17000 ، 18000 ، 20000 دينار وخلال مدة سريان العقود الثلاث حدث حريق أدى الى خسارة قيمتها 15000 دينار وقد قدرت قيمة البضاعة عند وقوع الحادث 50000 دينار

المطلوب

1- ما هو نصيب كل مؤمن من التعويض

2- ما مقدار المبلغ الذي يستلمه المؤمن من المؤمن الثلاثة

3- ماذا تسمى العملية التأمينية في السؤال

4- ما نوع الخطر المؤمن ضده في السؤال

5- ما نوع التأمين في السؤال

س4: ضع علامة صح او خطأ امام العبارات التالية مع تصحيح الخطأ ان وجد.

1- ان وظيفة خلق النقود هي وظيفة مشتقة للبنك المركزي.

2- ان المصارف الفردية هي مصارف كبيرة الحجم نسبيا يمتلكها افراد او شركات اشخاص.

3- من مميزات مصارف المجموعات هو تماثل خدماتها المصرفية في الاقاليم المتشابهه.

4- ظهر بنك انكلترا المركزي اول مره عام 1649.

5- تصنف مؤسسات الايداع ضمن المؤسسات المالية غير المصرفية.

س5: هناك العديد من النظريات التي تناولت السيولة، ماهي وضحاها بالتفصيل؟

س6: أ- ماهي اهم الاهداف التي تسعى اليها المصارف التجارية؟ وضها بشكل مفصل.

ب- ماهو الفرق بين صندوق النقد الدولي والبنك الدولي للانشاء والتعمير؟

مع تمنياتي لكم بالنجاح

أ.د. منتظر فاضل سعد  
رئيس القسم

م.د. سهام عالي حمود  
مدرس المادة

أ.م.فايزة حسن مسجت  
مدرس المادة





المادة: محاسبة التكاليف  
المرحلة: الثالثة

التاريخ: 2024 / 5 / 12

الوقت: ساعتان

أسئلة الامتحان النهائي للفصل الثاني

للعام الدراسي 2024/2023 الدور (الاول)

جامعة البصرة

كلية الإدارة والاقتصاد

قسم العلوم المالية والمصرفية

الدراسات الصباحية والمسائية

ملاحظة: ١. الإجابة عن أربعة أسئلة فقط وتوزع الدرجات بالتساوي بين الأسئلة. لكل سؤال (12.5) درجة  
٢. الإجابة بالقلم الجاف الأسود أو الأزرق حصراً.

السؤال الأول: توفرت لديك المعلومات الآتية عن شهر آذار ٢٠٢٢:

البيان	المبلغ الكلي	% المتغيرة	% الثابتة
<b>١. التكاليف الانتاجية</b>			
الرواتب موظفي الأقسام الفنية	٢٤٠٠٠		
الفوائد والعمولات المدينة	٥٠٠٠٠		
رواتب عمال الصيانة	٨٠٠٠	%٢٠	%٨٠
مواد الصيانة	٤٠٠٠	%٣٠	%٧٠
مزايأ عينية	٦٠٠٠	%٤٠	%٦٠
م. الصيانة	٣٢٠٠	%٢٥	%٧٥
م. التأمين	٣٢٠٠		
الاندثار	٢٤٠٠		
<b>٢. التكاليف التسويقية</b>			
رواتب واجور	٦٠٠٠	%٢٠	%٨٠
م. الاعلانات	٦٠٠٠		
مواد تسويقية	٨٠٠		
الاندثار	١٠٠٠		
<b>٣. التكاليف الادارية</b>			
	٢٣٦٠٠		%١٠
<b>٤. الفوائد والعمولات الدائنة</b>			
	١٥١٦٠٠		

المطلوب: اعداد كشف التكاليف وكشف الدخل وفقا لنظرية التكاليف الحديثة.

السؤال الثاني: فيما يلي بيانات التكاليف الخاصة باجور أحد العاملين الاساسيين لدى أحد المصارف التجارية خلال شهر اب:

عدد أيام العمل خلال الأسبوع ٥ أيام  
ساعات العمل الاعتيادية ٨ ساعة / اليوم  
معدل الاجر الاعتيادي ٥٠٠٠ دينار / ساعة  
الوقت الضائع غير المسموح به ساعتان خلال الأسبوع  
ساعات العمل الإضافية خلال الأسبوع ٤ ساعات  
معدل علاوة الاجر الإضافي %١٠٠  
الوقت الضائع المسموح به يوميا ساعة واحدة

المطلوب:

أولاً: احتساب اجمالي الاجر المستحق لهذا العامل خلال الأسبوع الأول من شهر اب.  
ثانياً: تحليل الاجر المستحق على فرض ان أجور الوقت الضائع المسموح به تعالج كتكاليف غير مباشرة.







المادة: التمويل الدولي  
المرحلة: الثالثة  
التاريخ: 2024/5/14  
الزمن: ساعتان



جامعة البصرة  
كلية الإدارة والاقتصاد  
قسم العلوم المالية والمصرفية  
الدراسات الصباحية والمسائية

أسئلة الامتحان النهائي/الدور الأول  
للعام الدراسي 2024/2023

ملاحظة: 1- الاجابة عن خمسة اسئلة فقط لكل سؤال عشر درجات .  
2- الاجابة بقلم الجاف الاسود او الازرق حصراً".

- س1 : حدد رمز الاجابة الصحيحة للجمل الاتية :-
1. تكمن أهمية التمويل الدولي على مستوى البلدان المتلقية :-  
أ. سد فجوة الصرف . ب. تحسين صورتها عالمياً . ج. ليس أي من الخيارين .
  2. تسهيلات الموردين قروض تمتد بين :-  
أ. سنة وثلاث سنوات ب. سنة وعشر سنوات . ج. ليس أي من الخيارين .
  3. تقسم مصادر التمويل الدولية :-  
أ. مصادر ثنائية واقليمية ب. مصادر اقليمية ودولية . ج. ليس أي من الخيارين .
  4. الاستيرادات تسجل في ميزان المدفوعات بند مدين في :-  
أ. الحساب الجاري ب. حساب النقد الاجنبي . ج. ليس أي من الخيارين .
  5. ميزان المدفوعات متوازن حسابياً حتى في حالة الاختلال بسبب :-  
أ. القيد المزدوج ب. فقرة السهو والخطأ . ج. ليس اي من الخيارين .
  6. من الاشكال الادارية للمصارف الدولية :-  
أ. البنوك المراسلة ب. الوكالات . ج. كلا الخيارين .
  7. من انواع الاستثمار الاجنبي المباشر :-  
أ. الباحث عن الثروات الطبيعية ب. الاستثمار المحفظي . ج. ليس اي من الخيارين .
  8. يسهم الاستثمار الاجنبي المباشر في :-  
أ. استقرار السوق ب. الاستغلال الامثل للموارد . ج. لس اي من الخيارين .
  9. الاستثمار الاجنبي المباشر يعني هيمنة الاجنبي على ملكية او ادارة المشروع بنسبة :-  
أ. 7% ب. 9% . ج. لس اي من الخيارين .
  10. من مصادر اليورو دولار :-  
أ. عجز ميزان المدفوعات الامريكي ب. احتياطي الذهب . ج. لس اي من الخيارين .

س2: حدد الجمل الصحيحة او الخاطئة بكتابة كلمة صح او خطأ وضح الخطأ ان وجد:-

1. تتسم القروض المصرفية الدولية مقارنة بالقروض الرسمية بسرعة الحصول عليها.
2. لنفترض ان العراق، قد اقترض سوريا 120 مليون دولار ، ستظهر في ميزان المدفوعات كفقرة مدين في حساب النقد الأجنبي.
3. من وظائف الاسواق المالية الدولية دعم الائتمان المحلي والخارجي.
4. يقصد باليورو دولار الحسابات والودائع الأجلة المقيمة باليورو والموجودة في امريكا.



5. الاستثمار الاجنبي غير المباشر يزيد كلا من انضباط الاسواق المالية والطلب على العملة المحلية.
6. يمكن أن تؤدي الاستثمارات الأجنبية غير المباشرة في البلدان المضيفة إلى رفع معدلات وكفاءة التشغيل وخفض تلوث البيئة.
7. من إيجابيات اسواق السندات الدولية تعدد عملات الاصدار والسيولة العالية
8. ترجع أهمية السندات الدولية عموما إلى كونها مضمونة وقليلة المخاطر وأداة ذات عائد مرتفع.
9. من مصادر اليورو دولار الودائع الدولارية للاتحاد السوفيتي.
10. من سلبيات اسواق السندات الدولية عدم التعرض لمخاطر اسعار الصرف.


س3: أ. تؤدي اسواق الصرف الدولية دورا هاما في النشاط الاقتصادي للبلدان، أعرض بالتفصيل أهم الوظائف التي يمكن أن تؤديها اسواق الصرف الدولية.  
ب. وضح أهم خصائص سوق الصرف الدولية.


س4: ساهمت إجراءات التحرير المالي في نقل اصدار الاسهم وتداولها من الاسواق المالية المحلية الى الاسواق الدولية. أجب عن ما يلي:-  
أ. أشرح طرق إصدار الاسهم الدولية.  
ب. بين ماهي سلبيات اسواق الاسهم الدولية.


- س5: اعطي توضيحا" للمفاهيم الاتية.(أختر اربع فقط):-
1. سعر الصرف الفعلي
  2. فقرة السهو والخطأ
  3. السندات الاجنبية
  4. مصادر التمويل الرسمية متعددة الاطراف
  5. ميزان المدفوعات
  6. السندات الاوربية

س6: يعتبر عصر العولمة عصر الازمات المالية . وضح ماهي أهم انواعها ، أشرح أهم الاسباب التي تفجر الازمات المالية الدولية.

مع الطيب امنياتنا لكم بالنجاح و التوفيق

  
أ.د. منتظر فاضل البطاط  
رئيس القسم

  
أ.م. د. عقيل عبد محمد  
مدرس المادة

  
م.م. سارة عباس علي  
مدرسة المادة

المرحلة: الثالثة  
المادة: سياسات  
التاريخ: ٢٠٢٤/٥/١٦  
الوقت: ساعتين



كلية الإدارة والاقتصاد  
قسم العلوم المالية والمصرفية  
الدراسة الصباحية والمسائية

أسئلة الامتحان النهائي الكورس الثاني (الدور الأول)

• ملاحظة/ الاجابة عن خمسة اسئلة فقط ( توزع الدرجات بالتساوي).

س١/ اجب عن مايلي :

أ- عرف الاحتياطي القانوني ثم بين محددات هذه الاداة وكيفية استخدامها في معالجة المشاكل الاقتصادية ( الكساد والتضخم).  
ب- هناك عدة اهداف للسياسة النقدية وضحاها مستعيناً بالشكل البياني.

س٢/ ماذا يعني التوازن العام مستعيناً بالاشكال البيانية التوازن في الاسواق ثم بين حالة الاختلال في عرض النقد بالزيادة وكيفية معالجته لاعادة التوازن.

س٣/ اجب عن ما يلي:

أ- وضح اهم النتائج التي توصل اليها فريدمان مستعيناً بالاشكال البيانية.  
ب- احدى الادوات المهمة التي يستخدمها البنك المركزي هي الادوات النوعية وضحاها.

س٤/ اعطي مفهوم ما يلي ( اجب عن عشرة )

- ١- المالية التعويضية
- ٢- الدخل الانتقالي
- ٣- نظرية التردد
- ٤- العوامل الذاتية
- ٥- سقوف الفائدة
- ٦- السياسة المالية
- ٧- الاحتياطات المصرفية
- ٨- الاستثمار
- ٩- السياسة النقدية الانكماشية
- ١٠- المضاعف النقدي
- ١١- المقاصة
- ١٢- المؤسسات المالية

س٥/ وضح النظرية النقدية الكلاسيكية والكنزية مستعيناً بالمعادلات والاشكال البيانية.

س٦/ اجب عن مايلي:

أ- وضح اثر السياسة النقدية في ميزان المدفوعات مستعيناً بالمخططات مع التوضيح.  
ب- تعد عمليات السوق المفتوحة احدى الادوات الكمية للبنك المركزي المهمة الا انه هناك العديد من محددات استخدامها وضح تلك المحددات.

مع دعائي لكم بالتوفيق والنجاح

أ.د منتظر فاضل سعد  
رئيس القسم

أ.د نعيم صباح جراح  
مدرس المادة



التاريخ: 2024 / 05 / 19  
الوقت: ساعتان  
المادة: محاسبة مصرفية



أسئلة الامتحان النهائي  
الكورس الثاني / الدور الأول  
الدراسات الصباحية والمسائية  
2024 - 2023



جامعة البصرة  
كلية الإدارة والاقتصاد  
قسم العلوم المالية والمصرفية

ملاحظة : الاجابة عن اربعة اسئلة فقط وبالقلم الجاف حصرا و توزع الدرجات بالتساوي على الاسئلة لكل سؤال (12.5) درجة

السؤال الاول : اذكر بالتفصيل أهداف النظام المحاسبي للمصارف ؟

السؤال الثاني : فيما يلي البيانات الخاصة بالحساب الجاري المدين لشركة بغداد لدى المصرف الاهلي العراقي - فرع البصرة خلال شهر تشرين الاول لسنة 2023 علما ان شروط الحساب كالتالي :

سقف الحساب الجاري المدين (الحد الاقصى المسموح به) 50000 دينار و بمعدل فائدة 6% و العمولة 1%

المسحوبات	الاداءات
10/1 شيك بمبلغ .....؟ دينار	10/8 شيك بمبلغ 5000 دينار
10/5 شيك بمبلغ 8000 دينار	10/13 شيك بمبلغ 9000 دينار
10/19 شيك بمبلغ 6000 دينار	10/23 شيك بمبلغ .....؟ دينار
10/27 شيك بمبلغ 4000 دينار	
مجموع المسحوبات : 28000 دينار	مجموع الاداءات : 18000 دينار

المطلوب : تصوير بطاقة حساب العميل (شركة بغداد) واحتساب الفائدة والعمولة ؟

السؤال الثالث : توفرت لديك البيانات التالية من مصرف الرافدين فرع الصيادلة :

- الرصيد النقدي في نهاية يوم 20 / 3 / 2022 بلغ 400,000 دينار  
- المقبوضات النقدية ليوم 21 / 3 / 2022 بلغت 800,000 دينار  
- المدفوعات النقدية ليوم 21 / 3 / 2022 بلغت 700,000 دينار  
وعند جرد الموجود النقدي في نهاية يوم 21 / 3 / 2023 تبين ان الرصيد النقدي بلغ 490,000 دينار وفي يوم 22 / 3 / 2023 قررت ادارة المصرف ما يلي :

- 50% من قيمة العجز يستلم نقدا من امين الخزينة فوراً
- 25% من قيمة العجز تتحمله ادارة الفرع
- 25% من قيمة العجز تتحمله شركة التأمين

المطلوب :

أولاً : اثبات العمليات المحاسبية  
ثانياً : اثبات العمليات المحاسبية بأفترض الموجودات النقدية عند الجرد بلغت 508,000 دينار  
وان الفرق تم معالجته بأفترض ما يلي : يوم 22 / 3 / 2023 تبين مبلغ الزيادة يعود الى احد عملاء المصرف والذي له حساب جاري دائن وطلب اضافة المبلغ الى حسابه .

- السؤال الرابع : في 2023/2/1 قام احد عملاء مصرف التنمية الدولي فرع البصرة بربط وديعة آجلة لمدة سنة كاملة علما أن مبلغ الوديعة كان 6000,000 دينار وبمعدل فائدة 3% تحسب وتضاف على اصل الوديعة كل 6 أشهر .
- المطلوب : اثبات القيود المحاسبية عند ربط الوديعة نقداً وخلال احتساب الفوائد وعند سحب الوديعة في تاريخ استحقاقها ؟

السؤال الخامس : الجدول التالي يمثل جدول التصفية والذي تم في غرفة المقاصة بالبنك المركزي وذلك يوم 2023/2/28


مكتب المقاصة

اليوم : الأحد جدول التصفية النهائية 2023/2/28 الجلسة الأولى

كشف التصفية النهائية (الكشف الصفري)				
الرصيد		الشيكات المسلمة	الشيكات المستلمة	اسم المصرف
له	منه			
		6000	4000	الائتمان العراقي
		4000	10000	الاقتصاد للاستثمار
		3000	6000	الشرق الأوسط
		10000	9000	المنصور للاستثمار
		5000	3000	بغداد التجاري
		11000	8000	الأهلي التجاري
		6000	5000	المتحد للاستثمار
		45000	45000	المجموع


المطلوب :

- 1- اكمل جدول التصفية النهائية باستخراج الرصيد ؟
- 2- اجراء القيود اليومية لمصرف (الائتمان العراقي و الشرق الاوسط)؟
- 3- اجراء القيود المحاسبية لدى البنك المركزي ؟



رئيس القسم  
أ.د. منتظر فاضل سعد

((مع تمنياتنا لكم بالنجاح))



مدرس المادة  
م. احمد عبدالكريم الياسين  
أ.م.د. احمد رسن علاوي



المادة : دراسات الجدوى المالية

التاريخ: 2024 / 05 / 19

الوقت : ساعتان فقط



جامعة البصرة

كلية الإدارة والاقتصاد

قسم العلوم المالية والمصرفية

الامتحان النهائي الدور (الأول)



المرحلة الثالثة

الكورس الثاني

2024 - 2023

ملاحظة : الإجابة عن اربعة أسئلة فقط لكل سؤال (12.5 درجة)

السؤال الأول : ما هي العوامل التي تؤثر في تكلفة رأس المال بالارتفاع والانخفاض ؟ وضحاها بشكل مفصل ؟

السؤال الثاني : اختر الإجابة الصحيحة

- 1- اذا كان للرفع المالي الدور الإيجابي هذا يمكنها باللجوء الى الاقتراض من اجل مردودية للمشروع عندما يكون :  
أ-  $Re < i$       ب-  $i > Re$       ج- لا شيء مما ذكر ( اذكره )
- 2- اذا تم استثمار مبلغ \$1000 الان ويتوقع ان يحصل المستثمر دخل \$40 وعلمت ان قيمة الاستثمار في نهاية السنة بمبلغ \$1100 هذا يعني ان HPR ستكون :  
أ- 10.4%      ب- 14%      ج- لا شيء مما ذكر ( اذكره )
- 3- اذا كان معدل العائد الداخلي يقع بين معدل خصم 14% و 16% وصافي القيمة الحالية للمعدل الأدنى \$23900 وللمعدل الأعلى (\$3400) عندها ستكون IRR :  
أ- 15%      ب- 14.8%      ج- لا شيء مما ذكر ( اذكره )
- 4- اذا كان لدى الشركة بديلان وكانت مبيعات الأول \$13000 والثاني \$17000 والتكاليف المتغيرة للبديل الأول \$9000 وللثاني \$13000 وتم اختيار البديل الثاني عندها ستكون تكلفة الفرصة البديلة :  
أ- \$13000      ب- لا توجد تكلفة فرصة بديله      ج- لا شيء مما ذكر ( اذكره )
- 5- اذا كانت العوائد المحتملة الحدوث للمشروع الأول في حالة الكساد 0.04 وفي حالة الازدهار 0.1 هذا يعني ان معدل العائد المتوقع سيكون :  
أ- 0.04      ب- 0.004      ج- لا شيء مما ذكر ( اذكره )

السؤال الثالث :

تبلغ كلفة تنفيذ مشروع معين \$200000 ويتوقع ان تكون الخردة نهاية العمر الإنتاجي \$15000 وكان الربح قبل الاندثار والضرائب كما في الجدول التالي :

السنة	الدخل قبل الاستهلاك والضرائب
1	\$ 40,000
2	\$ 48,000
3	\$ 76,000
4	\$ 80,000
5	\$ 90,000

فإذا كانت الضرائب بمعدل 15% ويعتمد المشروع طريقة القسط الثابت في احتساب الاندثار

المطلوب : هل تقبل او ترفض المشروع اذا استخدمت معدل العائد المحاسبي

اذا علمت ان هناك فرصة بديله بمعدل عائد 15%



السؤال الرابع :

تنوي شركة المشرق تنفيذ مشروع برأس مال \$2000,000 ويتوقع ان يكون العائد على الاستثمار 12% ومن اجل تدير رأس المال لجأت الشركة الى مصادر التمويل التالية :

- 1- سندات دين بقيمة \$200,000 حيث يتم اصدار للسند بقيمة اسمية \$1000 للسند الواحد وبفائدة اسمية 6% وفترة استحقاق 12 سنة ويبيع بخصم مقداره 2.4% ومعدل الضريبة 40%
- 2- اسهم ممتازة \$300,000 حيث تقوم الشركة بإصدار السهم الممتاز بقيمة اسمية \$100 للسهم، ويبيع بنفس القيمة وتدفع الشركة أرباحا موزعة للسهم قيمتها \$8 وعليها دفع نفقات اصدار نسبتها 4% من القيمة الاسمية للسهم
- 3- اسهم عادية بقيمة \$1,500,000 وقيمة اسمية \$100 للسهم، وتدفع أرباحا موزعة \$10 للسهم ويتوقع ان ينمو الربح الموزع بمعدل 5%

المطلوب : هل تنصح الشركة بالدخول بالمشروع اذا ما استخدمت طريقة حساب التكلفة المتوسطة المرجحة لرأس المال ؟


السؤال الخامس :

الجدول التالي يوضح بيانات شركة الواحة لمشروعين استثماريين ترغب في المقاضلة فيما بينهما بأستخدام صافي القيمة الحالية اذا علمت ان معدل الخصم 10% :

المشروع الثاني		المشروع الأول		البيانات
القيمة	السنوات	القيمة	السنوات	
\$80,000	0	\$50,000	0	الاستثمار المبدئي
\$40,000	1	\$40,000	1	
\$30,000	2	\$30,000	2	
0	3	\$20,000	3	الدفقات النقدية
0	1	\$60,000	1	
\$70,000	2	\$60,000	2	
\$60,000	3	\$20,000	3	
\$30,000	4	\$20,000	4	
\$40,000	5	0	5	


المطلوب : أي المشروعين ستختار ؟

مع تمنياتي لك بالنجاح



أ.د. منتظر فاضل البطاط

رئيس القسم



م.م. احمد سامي الديراوي

مدرس المادة



التاريخ: 23 / 5 / 2024  
الوقت: ساعتان  
المادة: بحوث عمليات



أسئلة الامتحان النهائي  
الكورس الثاني / الدور الأول  
الدراسات الصباحية والمسائية  
2023 - 2024



معة البصرة  
بة الإدارة واقتصاد  
م العلوم المالية والمصرفية

ملاحظة : الاجابة عن اربعة اسئلة فقط و توزع الدرجات بالتساوي على الاسئلة لكل سؤال (12.5) درجة

السؤال الاول : اوجد الحل الاولي للمشكلة النقل الاتية باستخدام طريقة الركن الشمالي الغربي , ثم توصل الى الحل النهائي (الامتثل) معتمدا طريقة التنقل عبر المربعات الخالية

	QS	X1	X2	X3
A1	40	1	4	9
A2	15	7	2	8
A3	45	1	3	10
QD=QS	100	17	50	33

السؤال الثاني : اذا علمت ان المعطيات أدناه خاصة بأنشطة شركة (الباسقات) المتخصصة في تجارة المواد الزراعية .

النشاط	المسار	المدة الزمنية (ساعة)
V1	1-2	2
V2	1-3	4
V3	2-3	3
V4	2-4	10
V5	3-4	5
V6	3-5	6
V7	4-5	8
V8	5-6	1

المطلوب // رسم شبكة الاعمال الخاصة بالشركة وايجاد المسارات المتاحة و المسار الحرج واستخراج الوقت الكلي ؟

السؤال الثالث : اوجد الحل الاولي للمشكلة النقل الاتية مستخدما طريقة اقل الكلف , ثم تأكد من امثليه الحل باستخدام طريقة التوزيع المعدلة ؟ علما ان قيمة  $U_2 = 1$  .

	QS	B1	B2	B3	B4
S1	60	2	7	10	13
S2	30	5	4	1	20
S3	50	8	1	9	13
S4	80	14	11	12	6
QD=QS	220	40	70	80	30

السؤال الرابع : مستخدماً طريقة فوجل التقديرية وفي ضوء المعطيات أدناه

	QS	شركة البصرة	شركة الميثاق	شركة النور	شركة المودة
المركز الاول	110	2	7	10	14
المركز الثاني	140	1	3	8	6
المركز الثالث	200	11	17	7	10
المركز الرابع	150	13	5	9	20
QD=QS	600	130	170	190	110

اجب عن الاتي //


1. احسب كلفة النقل الاجمالية للشركة البصرة ؟ 2. بيان مستوى التوازن في الجدول الرابع من التوزيع ؟
3. اوجد الكميات المنقولة من المركز الرابع الى شركة الميثاق ؟
4. اوجد الكميات المنقولة من المركز الثاني لكل من شركة المودة و شركة الميثاق على الترتيب ؟

السؤال الخامس : مستخدماً طريقة التنقل عبر المربعات الخالية و في ضوء المعطيات أدناه .

	QS	J1	J2	J <sub>2</sub>
C1	50	3	7	9
		50		
C2	100	10	4	11
		70	30	
C3	110	6	5	8
			20	90
QD=QS	260	120	50	90

اجب عن الاتي //

1. اذكر اسم المسار ذو مؤشر التحسين السالب ؟ 2. احسب مؤشر التحسين للمسار C1 / J3 ؟
3. بعد اجراء التعديلات بموجب الطريقة المذكورة وضح الكميات التي يتم توزيعها في الخلية J1 / C3 ؟
4. وضح مقدار الكمية التي يتم توزيعها في الخلية J1 / C2 ؟



رئيس القسم  
أ.د منتظر فاضل سعد



مدرس المادة  
م. حسن حيدر المبارك



المادة: المحاسبة الإدارية  
المرحلة: الرابعة  
التاريخ: 2024 / ٥ / ١١  
الزمن: ( < ) ساعة



جامعة البصرة  
كلية الإدارة والاقتصاد  
قسم العلوم المالية والمصرفية  
الدراسة الصباحية المسائية

أسئلة امتحان الكورس الثاني الدور (الإلمام)  
للعام الدراسي 2024/2023

ملاحظة: الاجابة على اربعة اسئلة فقط ، تقسم الدرجة بتساوي ، احسن الخط والاجابة والترتيب .....  
س1/ اختار الاجابة الصحيحة من خلال وضع رقم السؤال وامامه رمز الاختيار الصحيح:

1. مفهوم الملائمة يساعد متخذ القرارات على المفاضلة بين البدائل من خلال.....  
أ. التركيز على التكاليف والمنافع ذات الصلة بموضوع القرار. ب. تجاهل البنود العامة وغير الملائمة.  
ج. تخفيض التكاليف والايادات المرتبطة بموضوع القرار. د. أ + ب .
2. عند اتخاذ القرارات قصيرة الاجل تكون القاعدة العامة هي .....  
أ. التكاليف الثابتة هي دائماً تكاليف ملائمة. ب. التكاليف المتغيرة للوحدة هي دائماً غير ملائمة.  
ج. التكاليف والايادات المستقبلية هي دائماً ملائمة. د. التكاليف والايادات المستقبلية التي تختلف بين البدائل هي دائماً ملائمة.
3. تكلفة المخزون الحالي الذي تملكه الشركة هو مثال ل.....  
أ. تكلفة الفرصة الضائعة . ب. تكلفة غارقة. ج. التكاليف الملائمة . د. تكاليف مستقبلية.
4. اي من الاتي لا تجده في الموازنة النقدية.....  
أ. التحصيلات النقدية المخططة بالموازنة. ب. القروض المخططة بالموازنة.  
ج. مصروف الائتثار المخطط بالموازنة. د. كلفة الاجور المخططة بالموازنة .
5. اي من الموازنات الاتية هي موازنة غير مالية.....  
أ. موازنات الانتاج ب. موازنات كشف الدخل. ج. الموازنات النقدية. د. موازنة المركز المالي.

س2/ تحتاج احدى الشركات الى (١٠٠٠٠٠٠٠) وحدة في السنة القادمة من قطعة معينة ، وكانت تكلفة انتاج هذه الوحدات كالتالي:

البيان	تكلفة الوحدة المتوقعة	اجمالي تكاليف انتاج ١٠٠٠٠٠٠ وحدة
مواد مباشرة	7	70,000 دينار
اجور مباشرة	3	30,000 دينار
تكاليف صناعية (60% ثابتة)	5	500,000 دينار
تكاليف صناعية عامة موزعة	4	40,000 دينار
اجمالي تكاليف الإنتاج	19 دينار	190,000 دينار

يتوقع ان ترتفع اسعار المواد الخام في الفترة المقبلة بنسبة 20% وان ترتفع تكلفة الاجور الصناعية بنسبة 10% اما التكاليف الاخرى ستبقى على ما هي عليه. وتقدم مورد خارجي وعرض بيع هذه الكمية الى الشركة وبسعر 18 دينار للوحدة، وقد وجدت الشركة انه اذا تم قبول هذا العرض فانه يمكنها توفير مبلغ 10,000 دينار الاعباء الصناعية الثابتة و 10,000 دينار من التكاليف الصناعية العامة الموزعة بالاضافة الى امكانية تأجير الالات المستخدمة في انتاج هذه الوحدات الى الغير بمبلغ 25,000 دينار .  
والمطلوب، كونك محاسباً ادارياً بماذا تنصح الشركة التصنيع ام الشراء؟؟؟؟

س3/ تقوم شركة المراعي لصناعة الانبان بانتاج الحليب الذي يحقق مبيعات قدرها (50.000) وحدة، والتكاليف ائمتغيرة الاجمالية (14,932,500) دينار، وقد تبين فيما بعد ان خط انتاج الحليب يحقق خساره، علماً ان سعر البيع للوحدة كان (300) ديناراً ، وبصفتك محاسباً ادارياً هل تنصح الشركة باستبعاد الخط في ظل الافتراضات التالية:

1. ان استبعاد الخط الانتاجي سيؤدي الى توفير في التكاليف الثابتة بمبلغ (51,475) دينار والذي يشكل نسبة 71% من اجمالي التكاليف الثابتة.
2. في حالة توفرت لديك فرصة لتأجير المكان للغير بمبلغ سنوي مقداره (25000) ديناراً ، هل يختلف قرارك؟

س4 / تتوفر لدى شركة. رويل الصناعية طاقة انتاجية متاحة مقدارها(2500) وحدة من احد المنتجات، في حين انها تنتج (2000) وحدة، والاتي البيانات ائمتوقعة عن التكاليف الشهرية لهذا المنتج:

بيانات التكاليف	البيان
40 دينار	سعر البيع
14 دينار	مواد مباشرة ✓
6 دينار	اجور مباشرة ✓
4 دينار	ت.ص.غ. م متغيرة ✓
17000 دينار شهرياً	ت.ص.غ. م ثابتة
2500 دينار شهرياً	م. تسويقية وادارية ثابتة

تقدمت شركة بطلبية خاصة لشراء 400 وحدة من هذا المنتج بسعر قدره 25 دينار علماً ان قبول هذه الطلبية سيوفر عمولة رجال البيع التي تشكل 50% من التكاليف التسويقية والادارية المتغيرة، على فرض عدم تأثير المبيعات الحالية للشركة بقبول الطلبية او رفضها، علماً ان التكاليف التسويقية والادارية المتغيرة للوحدة 3 دينار للوحدة.

المطلوب: هل يجب على الشركة قبول الطلبية او رفضها. وما اثر قبول الطلبية على ربحية الشركة (كم تبلغ الارباح الناتجة عن قبول الطلبية)؟؟؟


س5 تنتج وتبيع شركة البصرة للاثاث مناخذ مكتبية، وتسوق الشركة المنتج في ثلاث منافذ تسويقية هي الشمال ، والوسط ، والجنوب، ونصيب المنافذ التسويقية من المبيعات الشهرية هي 40%، 40%، 20% على التوالي، وفيما يلي المبيعات المخططة خلال خمسة اشهر من عام 2025 .


نيسان 725 وحدة ، مايس 1000 وحدة ، حزيران 1200 وحدة، تموز 1700 وحدة ، آب 700 وحدة.

وسعر البيع المخطط (10000) دينار للوحدة.

المطلوب : اعداد موازنة المبيعات للفصل الثاني لعام 2025.

مع التمنيات لكم بالموفقية والنجاح

  
أ.د. منتظر فاضل سعد  
رئيس القسم

  
م.د. شروق خلف لطيف  
مدرسة المادة



المادة: التدقيق المالي  
المرحلة: الرابعة للدراسين الصباحية  
والمسائية  
التاريخ: 2024 / 5 / 13  
الدور: الدور



جامعة البصرة  
كلية الإدارة والاقتصاد  
قسم العلوم المالية  
والمصرفية

أسئلة الامتحان النهائي للكوس الثاني للعام  
الدراسي 2024/2023

ملاحظة: 1. الإجابة عن أربعة أسئلة فقط وتوزع الدرجات بالتساوي بين الأسئلة. لكل سؤال (12.5) درجة  
2. الإجابة بالقلم الجاف الأسود او الأزرق حصراً.


السؤال الأول: اختر الاجابة الصحيحة لكل مما يلي مع ذكر الاجابة الصحيحة ان لم تكن موجودة ضمن الخيارات؟

<p>(2) <b>الايخطاء المتكافئة والايخطاء الفنية:</b></p> <ul style="list-style-type: none"> <li>• تؤثر على توازن ميزان المراجعة.</li> <li>• تؤثر على تفسير نتائج المشروع.</li> <li>• الخيارين اعلاه معاً.</li> </ul>	<p>(1) <b>التدقيق الجزئي يمكن أن يكون تدقيق تفصيلي إذا تم فحص:</b></p> <ul style="list-style-type: none"> <li>• عينة من القيود لكل المنشأة.</li> <li>• عينة من القيود لجزء من المنشأة.</li> <li>• غير ذلك (انكره).</li> </ul>
<p>(4) <b>ايخطاء الارتكاب سبب حدوثها هو:</b></p> <ul style="list-style-type: none"> <li>• تسجيل عملية محاسبية بشكل مكرر فقط.</li> <li>• ترحيل عملية محاسبية بشكل مكرر فقط.</li> <li>• الخيارين اعلاه معاً.</li> <li>• غير ذلك (انكره).</li> </ul>	<p>(3) <b>ما يميز التدقيق عن المحاسبة بأنه:</b></p> <ul style="list-style-type: none"> <li>• علم تحليلي ينتهي بالقيود والسجلات المحاسبية ويبدأ بالقوائم المالية.</li> <li>• علم انشائي يبدأ بالقوائم المالية وينتهي بالقيود والسجلات المحاسبية.</li> <li>• غير ذلك (انكره).</li> </ul>
<p>(6) <b>التدقيق الخارجي الغرض منه:</b></p> <ul style="list-style-type: none"> <li>• الاطمئنان على سير الاعمال.</li> <li>• تحقيق أكبر قدر من الكفاءة الإنتاجية والادارية.</li> <li>• الخيارين اعلاه معاً.</li> <li>• غير ذلك (انكره).</li> </ul>	<p>(5) <b>من سلبيات التدقيق النهائي انه:</b></p> <ul style="list-style-type: none"> <li>• يوطد العلاقة بين المحاسب والمدقق.</li> <li>• يولد العمل الروتيني.</li> <li>• الخيارين اعلاه معاً.</li> <li>• غير ذلك (انكره).</li> </ul>

السؤال الثاني: باعتبارك مدقق حسابات بين رأيك في القيود المحاسبية أي منها اعد بصورة صحيحة وأي منها اعد بصورة خاطئة معتمد على صحة شرح هذه القيود؟

<p>45000 من ح / المشتريات 45000 الى ح / الدائنون شراء بضاعة بالأجل بمبلغ قدره 54000 دينار</p>	<p>2</p>	<p>35000 من ح / نقدية لدى المصرف 35000 الى ح / مصروفات تسويقية تم دفع مصاريف تسويقية نقداً والبالغة 35000 دينار</p>	<p>1</p>
<p>75000 من ح / ايراد عقار 75000 الى ح / نقدية لدى المصرف تم استلام ايراد عقار بشيك مبلغه 75000 دينار</p>	<p>4</p>	<p>600000 من ح / رواتب واجور 600000 الى ح / نقدية لدى الصندوق تم تعيين موظفين اثنين براتب قدره 300000 دينار</p>	<p>3</p>
<p>27000 من ح / خدمات قانونية 27000 الى ح / نقدية لدى المصرف دفع مصاريف خدمات قانونية نقداً والبالغة 27000 دينار</p>	<p>6</p>	<p>65000 من ح / المدينون 65000 الى ح / المبيعات بيع بضاعة بالاجل بمبلغ قدره 65000 دينار</p>	<p>5</p>

السؤال الثالث: أجب عن الفرعين الآتيين:  
أ- وضح أنواع قواعد السلوك المهني المنظمة لعمل المدقق؟  
ب- وضح مفهوم الرقابة الداخلية مع ذكر العناصر الأساسية لها بالتفصيل؟




السؤال الرابع : اجب عن فرعين فقط:  
أ- وضح مسؤوليات المدقق عن اكتشاف الأخطاء والمخالفات؟  
ب- ما هي واجبات المدقق المهنية في حالة وجود غش أو تلاعب؟  
ت- ما هي أنواع مسؤولية المدقق عددها و اشرح واحدة منها؟



السؤال الخامس :  
(بلورة نتائج أعمال التدقيق بشكل نهائي تتمثل بتقرير المدقق حيث يبدي المدقق رأيه من خلال وثيقة مكتوبه وفق معايير محده ومعروفة))

↑ بناءً على ذلك اذكر انواع التقارير التي يعدها المدقق بناءً على رأيه مع ذكر الحالات التي تحدد طبيعة أبداء هذا الرأي ؟



السؤال السادس : أجب عن الفرعين  
أ- ما المقصود بأدلة الاثبات مع توضيح انواعها والعوامل المؤثرة على كفاءة هذه الادلة ؟  
ب- اذكر ما يميز الاهداف الحديثة عن الاهداف الكلاسيكية لعملية التدقيق؟



مع تمنياتنا لكم بالنجاح الباهر

رئيس القسم  
إ.د. منتظر فاضل سعد

إ.م. حسام احمد علي

مدرس المادة  
م. بان توفيق

م. احمد عبد الكريم الياسين



المادة: تقييم قرارات استثمارية  
المرحلة: الرابعة  
التاريخ: ٢٠٢٤ / ١٥ / ١٥  
الزمن: ساعتين



الدراسات  
الاقتصادية



أسئلة امتحان الكورس الثاني  
للعام الدراسي ٢٠٢٣-٢٠٢٤

جامعة البصرة  
كلية الإدارة والاقتصاد  
قسم العلوم المالية والمصرفية  
الدراسة الصباحي والمسائي

### ملاحظة :- الإجابة عن خمسة أسئلة فقط

- س١/ أ- وضح بالتفصيل أنواع مستويات كفاءة . (٦ درجات)
- ب- ماهي اهم أسباب أهمية الاستثمار الأجنبي والخارجي للدول النامية . (٤ درجات)
- س٢ / أ- ماذا يقصد بالمخاطر المنتظمة مع ذكر بالتفصيل عوامل المخاطر المنتظمة . (٦ درجات)
- ب- الاستثمار يختلف عن الادخار وفق جوانب معينة وضح بالتفصيل ذلك الاختلاف . (٤ درجات)
- س٣/ أ- دراسة الجدوى الاقتصادية للمشروع هو إجابة عن كل تساؤلات المطروحة عن الاستثمار وضح ماذا يقصد بدراسة الجدوى الأولية مع ذكر الجوانب الأساسية التي تعالجها الدراسة الجدوى الأولية . (٦ درجات)
- ب- ماهي اهم العوامل التي تعتمد عليها درجة قبول المستثمر للمخاطر (٤ درجات)
- س٤/ أ- تظهر أهمية الاستثمار على المستوى الوطني وكذلك على المستوى الفردي وضح تلك الأهمية بالتفصيل . (٦ درجات)
- ب- وضح بالتفصيل مراحل اختيار البديل الأفضل والمفاضلة بين المشاريع الاستثمارية. (٤ درجات)
- س٥/ اذا كانت القيمة الاسمية لاذن الخزينة \$ 10,000 وقيمتها في السوق \$9,888 وفترة الاستحقاق 2023/6/1- 2023/8/29 المطلوب حساب عائد فترة الاسحقاق لاذن الخزينة. (١٠ درجات)
- س٦/ اشترى مستثمر سهم من شركة بسعر \$ 9 وخلال الفترة وزعت الشركة أرباح بمعدل \$ 12 وبعدها باع المستثمر السهم بسعر \$ 9.5 فاذا علمت ان القيمة الاسمية للسهم هي \$ 6 . المطلوب حساب العائد للفترة الاحتفاظ بالسهم الشركة . (١٠ درجات)

تمنياتي لكم بالنجاح

أ.د. منظر فاضل سعد  
رئيس القسم ومدرس المادة

م.م. عدنان جاسب عبادي  
مدرس المادة

8/31 7/31 6/30

المرحلة : الرابعة  
المادة : المشتقات المالية  
التاريخ : ٨٨ / ٥ / 2024  
الوقت : ساعتان



جامعة البصرة  
كلية الإدارة والاقتصاد  
قسم العلوم المالية والمصرفية  
الدراسات الصباحية و المسائية

أسئلة الامتحان النهائي الكورس الثاني  
للعام الدراسي 2023-2024 / الدرر الزول

الاسم ..... الرقم ..... الشعبة .....

ملاحظة : الاجابة عن أربعة اسئلة فقط، (توزع الدرجات بالتساوي (12.5) درجة لكل سؤال)

س ١: توفرت لديك البيانات الآتية:

سعر خيار البيع Put option			سعر خيار الشراء Call option			سعر التنفيذ
May	April	Jan	May	April	Jan	
23	21	11	11	8	2	142
27	24	15	14	9	4	139
32	30	19	18	10	3	145

علما ان السعر السوقي لسهم (HAVAL) هو (142) ، وتاريخ التنفيذ 12 Jan ، 18 April ، 21 May .  
المطلوب ما يلي:

- 1- استخراج القيمة الذاتية والقيمة الزمنية لخيار شراء سهم (HAVAL)، مع التعليق على النتائج.
- 2- استخراج القيمة الذاتية والقيمة الزمنية لخيار بيع سهم (HAVAL).

\*\*\*\*\*

س ٢: اختر الاجابة الصحيحة لما يلي:

- 1- من المزايا التي يمكن ان تتحقق نتيجة التعامل بالمشتقات المالية:  
أ- المضاربة      ب- الرفع المالي      ج- التحوط      د- جميع ما ذكر

٢- يكون خيار الشراء مربحاً اذا كان:

- أ- السعر السوقي أقل من سعر التنفيذ.
- ب- السعر السوقي أكبر من سعر التنفيذ.
- ج- السعر السوقي مساوياً لسعر التنفيذ.

٣- الخيار الذي يعطي الحق لحامله ولكن ليس الالتزام لشراء أصل معين هو:

- أ- الخيار الأمريكي      ب- خيار البيع      ج- خيار الشراء



٤- الخيارات التي تنفذ في وقت محدد فقط هي:  
أ- الخيارات الاوربية      ب- الخيارات الامريكية      ج- خيار البيع

٥- العقد الآجل هو اتفاق بين طرفين يكون:  
أ- ملزم      ب- تفاوضي      ج- نمطي

\*\*\*\*\*

س٣: أجب عن الفرعين:

أ- اشترى احمد خيار شراء على مؤشر (MMI) بسعر تنفيذ لشهر أيار (1350) بعلاوة قدرها (7) دولار للوحدة الواحدة من المؤشر، اذا كان مضاعف المؤشر يعادل (250) وسعر اغلاق لشهر أيار هو (1425)، ما هو صافي ربح / خسارة أحمد؟

ب- عرف العقود المستقبلية موضحاً أهم أنواعها بالتفصيل.

\*\*\*\*\*


س٤: قارن بين كل مما يأتي:

- ١- الخيارات والأسهم.
- ٢- العقود المستقبلية والعقود الآجلة.
- ٣- الأسواق المنظمة والأسواق غير المنظمة.
- ٤- الخيارات الاوربية والخيارات الامريكية.

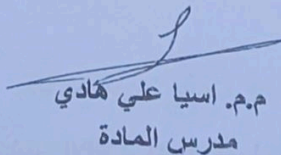
\*\*\*\*\*

س٥: عرف المبادلات ( المقايضات )، موضحاً أهم أنواعها وعناصرها و أسباب استخدامها.

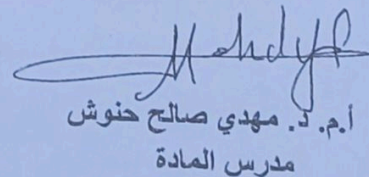
أرجوكم التوفيق



أ.د. منتظر فاضل سعد  
رئيس القسم



م.م. اسيا علي هادي  
مدرس المادة



أ.م. د. مهدي صالح حنوش  
مدرس المادة



اسئلة الامتحان النهائي / الفصل الثاني - الدور ( الأول )

الاسم ..... الرقم ..... الشعبة .....

ملاحظة: الاجابة عن خمسة اسئلة فقط وتوزع الدرجة بالتساوي.

س1: ضع علامة صح او خطأ امام العبارات التالية مع تصحيح الخطأ ان وجد.

- 1- ادارة المخاطر هي مجموعة من القوانين والنظم التي تهدف الى تحقيق الجودة والتميز بالاداء.
- 2- تشمل الشريحة الثانية من راس المال الاساسي في المصرف على راس المال المكتتب به.
- 3- ان تطبيق الحوكمة السليمة يقع ضمن المسؤوليات الاشرافية للبنك التجاري.
- 4- يمكن تطبيق معايير بازل في المحاسبة بدون ان يكون المصرف قد التزم بمبادئ الحوكمة السليمة.
- 5- تقترح لجنة بازل وضع ثلاثة نسب رئيسة للسيولة في المصرف التجاري.

س2: اختر الاجابة الصحيحة لكل مما ياتي:

اجب عن مايلي:

1- ان تاكد المراقبون في احتفاظ كل بنك بسجلات كافيته لسياساته المحاسبية يقع ضمن مبدأ

أ-الصلاحية الرسمية للمراقبين ب- توفر المعلومات ج- الرقابه الفعاله

2- الانضباط الفعال للسوق يعتمد على

أ-بيئة تشريعية متطوره ب- تدخل حكومي ج- تدفق المعلومات

3- عند منح القروض يجب على المصرف ان ياخذ بعين الاعتبار

أ-امكاناته المالية ب- نشاطات المصرف ج- الاجهزة الرقابيه

4- الضمانات الملائمة التي يجب ان ياخذها المصرف بالاعتبار تقع ضمن

أ-الطريقة العلاجية ب- الطريقة الوقائية ج- التنوع

5- تجنّب تمركز القروض لزيائن معينين يقع ضمن

أ-التنوع ب- الاختيار ج- وضع حد للمخاطر

6- قد تحدث عندما يصدر البنك خطاب اعتماد مستندي لاستيراد بضائع من الخارج نيابه عن عميله

أ-مخاطر سوقية ب- مخاطر سعر الصرف ج- مخاطر ائتمانية

7- تشمل الشريحة الاولى لراس المال في المصرف التجاري بالاضافة الى راس المال المكتتب به

أ-الارباح الموزعة ب- ادوات مالية مقيده لخمس سنوات ج- سندات الدين

8- يقصد بانضباط السوق دعم

أ-الشفافية ب- تحديد الرافعه المالية ج- الحوكمة

9- عند حدوث انتعاش في الاقتصاد فان المصرف يتبع سياسه ائتمانية

أ- توسعية ب- انكماشيه ج- يتوقف عن منح القروض

10- السحب المفاجئ للودائع يؤدي الى حدوث مخاطر

أ-سوقيه ب- السيوله ج- سعر الفائدة



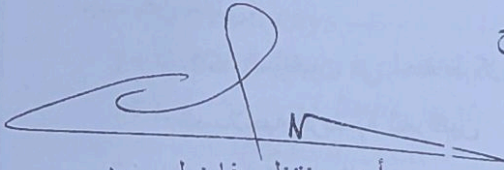
س3: عرف الحوكمة المصرفية، وماهي اسباب الاهمية المضاعفة لحوكمة المصارف واهم الاغراض التي تحققها الحوكمة للعمل المصرفي، وضح كل ماسبق بالتفصيل.

س4: ماهي المراحل والخطوات التي تتضمنها عملية ادارة المخاطر في المصارف وكيف يتم تصنيف المخاطر في العمل المصرفي، وضح ذلك بالتفصيل.


س5: ماهي اهم المحاور التي جاءت بها اتفاقية بازل 3، وضحها بشكل مفصل؟

س6: تشمل المبادئ الاساسية للجنة بازل(25) مبدأ تغطي كافة جوانب الاشراف المصرفي وهي تدرج تحت سبع مجموعات رئيسية، اذكر خمسة من هذه المجموعات بالتفصيل.

مع تمنياتي لكم بالنجاح



أ.د. منتظر فاضل سعد  
رئيس القسم



أ.م.فايزة حسن مسجد  
مدرس المادة

University of Basra  
College of Administration and Economics  
Finance and Banking Department

Date: 22/5/2024

Time: ~~Three~~ hours

Final Exam

Subject: English language

Class: 4

Note: Answer Five questions only. Each question carries 10 marks

Q1/: Read about Scott Cory and choose the *correct verb form*.

Scott Cory is the American schoolboy rock-climbing sensation. He 1- **has already been climbing / has already climbed** some of the highest, most dangerous rock -faces in the world. He 2- **was starting climbing / started climbing** when he was seven. He 3- **has been being named / has been named** "spider-boy" by the press. Scott 4- **is training / trains** at least five hours a day. He 5- **has been preparing / has prepared** for months for his last challenge.

Q2/: put the verb in brackets into the correct *passive tense*.

- 1- The burglars ----- (**catch**) as they left the office.
- 2- The postbox is always ----- (**empty**) at 12 midday.
- 3- We were driving down a quite country lane when suddenly we ----- (**overtake**) by a police car.
- 4- Our house ----- (**built**) in the 17<sup>th</sup> century.
- 5- Has the coffee machine been----- (**fix**) yet?

Q3/: A/ write L for a literal meaning and I for an idiomatic one, for the underlined words

- 1- The baby's crying. Can you **pick him up**. -----
- 2- After a slow start my business finally started to **take off**. -----
- 3- Ali and Samir **fell out** again last night. -----
- 4- When you are riding on the back of motorbike, you have to **hold on** tight. --
- 5- **Put up** your hand if you know the answer. -----

B/: Choose the right option "a" or "b" (present perfect simple or continuous) to make sentences.

- 1- I've lost -----  
a- My car keys            b- weight recently
- 2- I've saved up -----  
a- A bout 300\$            b- to buy a new phone.
- 3- I've written -----  
a- My essay all morning    b- to Sami to wish him happy birthday
- 4- I've been finding -----  
a- It difficult to concertante recently    b- my cheque book at last
- 5- He's been having -----  
a- Second thoughts about accepting the job    b- heart attack



**Q4/:** Are the following **underlined words** grammatically true (T) or false (F), and **correct** if it false (F).


- 1- Stars shines at night.
- 2- I hearing you now.
- 3- They asked me to make overtime!
- 4- I have eaten an apple.
- 5- I think I will make a nice profit from my present job.


**Q5/:** Choose the right option

- 1- I need to have a rest. We ----- nonstop for four hours.  
a- have been    b- has been    c- had been
- 2- ----- is the **compound noun** for the words: *shake, writing* and *bag*  
a- case    b- hand    c- book
- 3- A button has come----- my shirt. Could you sew it back on for me?  
a- on    b- in    c- off
- 4- I am going to the library to take ---- the book's I've finished.  
a- back    b- away    c-off
- 5- we had pizza for supper -----,  
a- last night    b- at the moment    c- next time
- 6- Iraq has ----- a lot of oil in recent years.  
a- exporting    b- exported    c- exports
- 7- I ----- my homework very quickly yesterday evening.  
a- do    b- did    c- done
- 8- I didn't like the manager much. I don't think I ----- a good impression on him.  
a- make    b- made    c- do
- 9- it ----- raining since yesterday.  
a- have been    b- has been    c- had been
- 10- I wish I ----- not eaten so much.  
a- have    b- had    c- was

**Q6/:** Write **A** for an underlined *auxiliary* verb and **F** for a *full* one.

- 1- It has been a lovely day. Thank you. -----
- 2- What does your new boss look like? -----
- 3- I always have a shower after work. -----
- 4- What have you done to your hair? You look awful! -----
- 5- I have always had a passion for Indian food. -----

  
Dr. Muntather F. Saad  
Head of the Department

  
Dr. Hussein J. Kadhum  
Lecturer